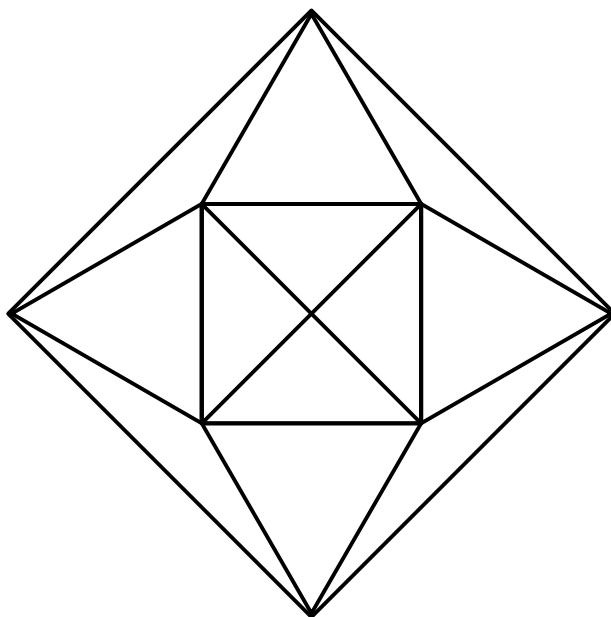


1

התבוננו בציור והעזר בסרגל כדי לענות לשאלות



\_\_\_\_\_

\_\_\_\_\_

\_\_\_\_\_

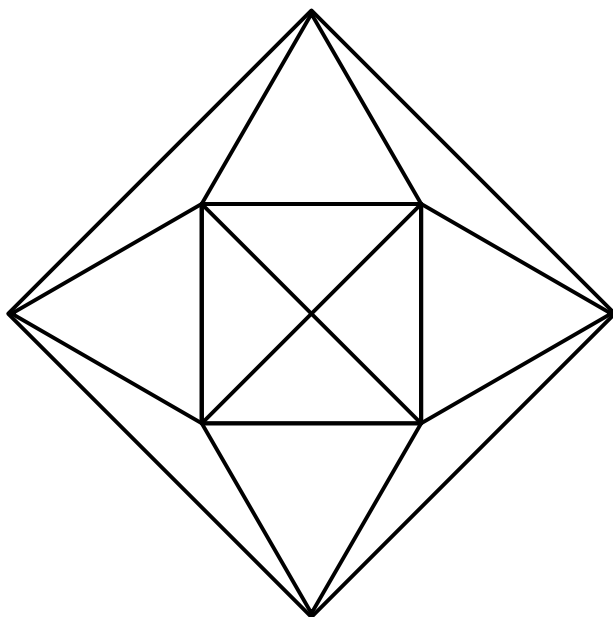
\_\_\_\_\_

- כמה משלשים ישרי זווית יש בציור?
- כמה משלשים שוי שוקים יש בציור?
- כמה משלשים שוי צלעות יש בציור?
- כמה משלשים יש בסך הכל בציור?

צירו ציור בו יש שני משלשים ישרי זווית ושני משלשים שוי צלעות

1

התבוננו בציור והעזר בסרגל כדי לענות לשאלות



\_\_\_\_\_ 4

\_\_\_\_\_ 12

\_\_\_\_\_ 4

\_\_\_\_\_ 12

כמה משלשים ישרי זווית יש בציור?

כמה משלשים שזוויתם ישרה יש בציור?

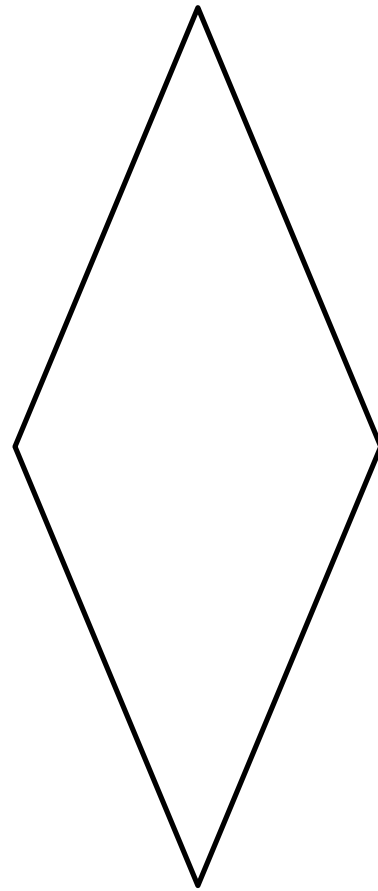
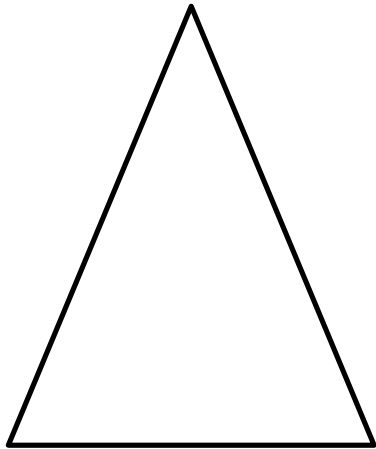
כמה משלשים שזוויתם ישרה יש בציור?

כמה משלשים יש בסך הכל בציור?

צירו ציור בו יש שני משלשים ישרי זווית ושני משלשים שזוויתם ישרה

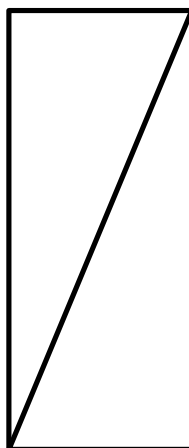
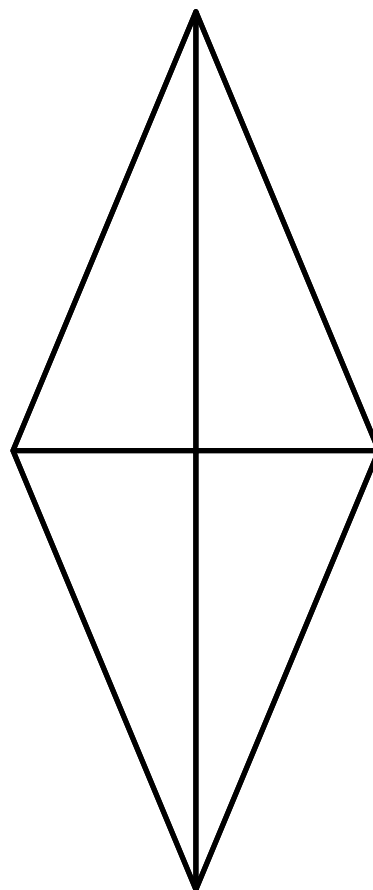
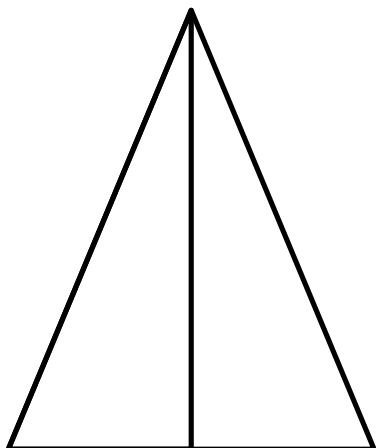
1

הצורות שלפניך בנויות בעזרת אותו משלש ישר-זוית. צירו אותו



הצורות שלפניך בנויות בעזרת אותו משלש ישר-זוית. צירו אותו

1



1

לפניך דיאגרמה המציגת את גובה השלג שירד בירושלים בשנים מסוימות.  
 כל מילימטר בדיאגרמה מציג סנטימטר של שלג שירד.  
 מדדו את גובה העמודות בדיאגרמה וצנה על השאלות



מה גובה העמודה המציגת את גובה השלג שירד בשנת 1993?

---

מה היה גובה השלג שירד בירושלים בשנת 1993?

---

באיזו שנה ירד הכי הרבה שלג? כמה שלג ירד בשנה זו?

---

בגנה של ענת בירושלים יש עציץ בגובה 22 ס"מ. באילו שנים העציץ פסה פלו בשלג?

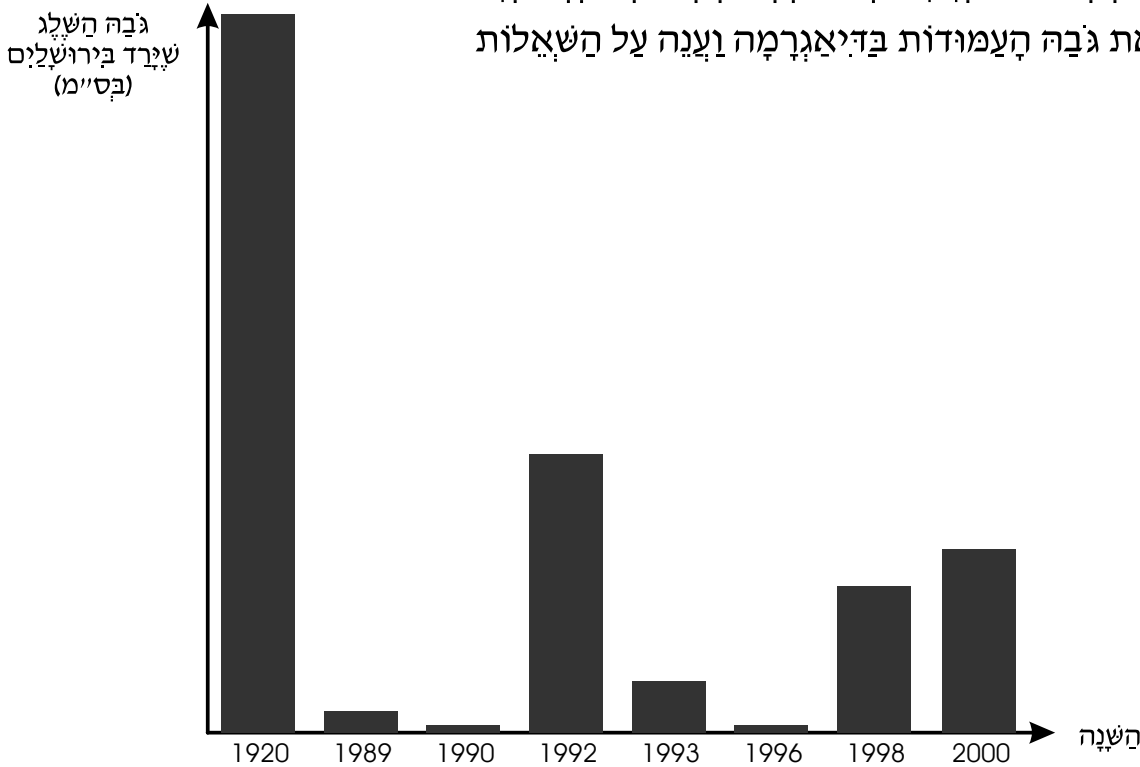
---

בשנת 2000 ירדו בירושלים 25 סנטימטרים של שלג.

בנו עמודה חדשה בדיאגרמה שתיצג נתון זה

1

לפניך דיאגרמה המציגת את גובה השלג שירד בירושלים בשנים מסוימות.  
 כל מילימטר בדיאגרמה מציג סנטימטר של שלג שירד.  
 מדדו את גובה העמודות בדיאגרמה וזכרו את השאלות



מה גובה העמודה המציגת את גובה השלג שירד בשנת 1993?  
 7 מ"מ

מה היה גובה השלג שירד בירושלים בשנת 1993?  
 7 ס"מ

באיזו שנה ירד הכי הרבה שלג? כמה שלג ירד בשנה זו?  
 בשנת 1920 ירד הכי הרבה שלג. בשנה זו ירדו 98 ס"מ.

בגובה של ענת בירושלים יש עציץ בגובה 22 ס"מ. באילו שנים העציץ פסה כלו בשלג?  
 העציץ כוסה בשלג בשנת 1920 ובשנת 1992.

בשנת 2000 ירדו בירושלים 25 סנטימטרים של שלג.  
 בנו עמודה חדשה בדיאגרמה שתציג נתון זה