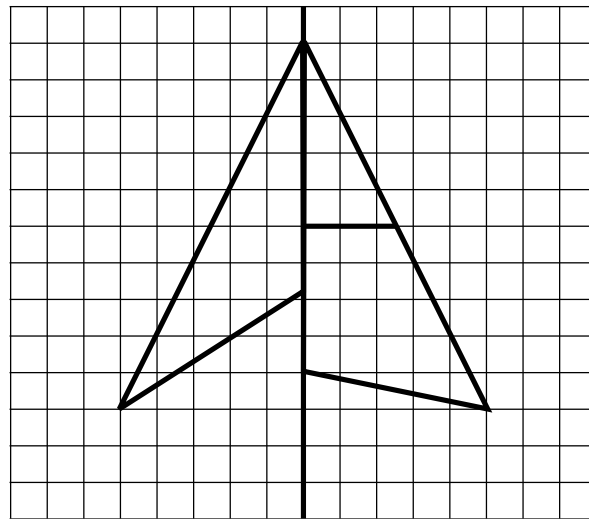


1

חפשו בפרסומות סמלים סימטריים והעתיקו אותם

2

השלימו את הצורה הבאה כך שהיא תהיה סימטרית ביחס לקו המאונך

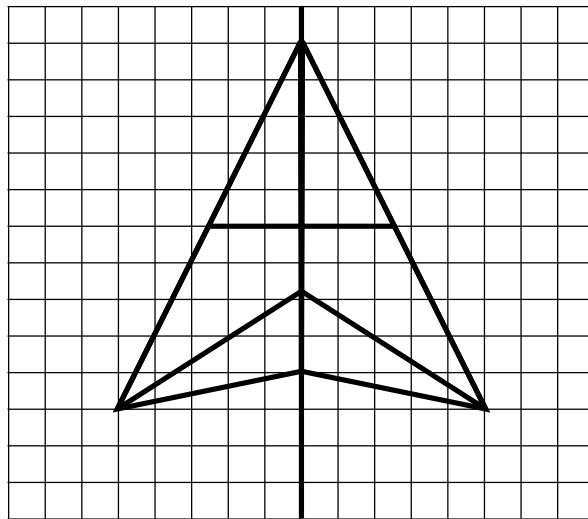


חפשו בפרסומות סמלים סימטריים והעתיקו אותם

1

השלימו את הצורה הבאה כך שהיא תהיה סימטרית ביחס לקו המאונך

2



1

שָׁרָה אוֹסֶפֶת תְּמוּנֹת.

חֲבִילָה שֶׁל 10 תְּמוּנֹת עוֹלָה 8 שְׁקָלִים.

חֲבִילָה שֶׁל 5 תְּמוּנֹת עוֹלָה 5 שְׁקָלִים.

תְּמוּנָה אַחַת עוֹלָה 2 שְׁקָלִים.

לְשָׂרָה יֵשׁ אֲלֵבוּם עַם 8 עֲמוּדִים.

בְּכָל עֲמוּד יֵשׁ מְקוֹם לְ 6 תְּמוּנֹת.

הִיא רוֹצֶה לְמַלֵּא אֶת הָאֲלֵבוּם בְּכַמָּה שְׁפָחוֹת כֶּסֶף.

מָה הִיא צָרִיכָה לְקַנּוֹת?

1

שָׁרָה אוֹסֶפֶת תְּמוּנֹת.

חֲבִילָה שֶׁל 10 תְּמוּנֹת עוֹלָה 8 שְׂקָלִים.

חֲבִילָה שֶׁל 5 תְּמוּנֹת עוֹלָה 5 שְׂקָלִים.

תְּמוּנָה אַחַת עוֹלָה 2 שְׂקָלִים.

לְשָׂרָה יֵשׁ אֲלֵבוּם עַם 8 עֲמוּדִים.

בְּכָל עֲמוּד יֵשׁ מְקוֹם לְ 6 תְּמוּנֹת.

הִיא רוֹצֶה לְמַלֵּא אֶת הָאֲלֵבוּם בְּכַמָּה שְׂפָחוֹת כֶּסֶף.

מָה הִיא צָרִיכָה לְקַנּוֹת?

הִיא צָרִיכָה לְקַנּוֹת 5 חֲבִילוֹת שֶׁל 10 תְּמוּנֹת.

1

8 עוגות עולות 24 שקלים.

כמה עולות 10 עוגות? _____

כמה עולות 4 עוגות? _____

איך חשבתם? _____

1

8 עוגות עולות 24 שקלים.

כמה עולות 10 עוגות? 30 שקלים.

כמה עולות 4 עוגות? 12 שקלים.

איך חשבתם?

1

אָבָא מְבַגֵּר בְּשָׁנָתִים מֵאִמָּא.

יערו בן 6.

קרו מבגרת ב - 3 שנים מערו.

אָבָא מְבַגֵּר פִּי 4 מִקְרוֹ.

בני כמה אבא ואמא?

(אפשר להעזר במחשבון)

1

אָבָא מְבַגֵּר בְּשָׁנֵיתִים מֵאִמָּא.

עָרוּ בֶן 6.

קָרוּ מְבַגֵּרֵת בְּ - 3 שָׁנִים מֵעָרוּ.

אָבָא מְבַגֵּר פִּי 4 מִקָּרוּ.

בְּנֵי כַּמָּה אָבָא וְאִמָּא?

(אָפְשָׁר לְהַעֲזֹר בְּמַחְשָׁבוֹן)


אבא בן 36.

אמא בת 34.

1

בְּקִבּוּץ גִּלְבוּעַ כָּל פָּרָה נוֹתֶנֶת בְּמִמְצָע 12 לִיטָר חֵלֶב בַּיּוֹם.
כַּמָּה לִיטָרִים שֶׁל חֵלֶב בְּסֵךְ הַכּ' ל יתנו בַּח' דָּשׁ אִיר
הַעֲדָר שֶׁל קִבּוּץ גִּלְבוּעַ הַמוֹנָה 8 פָּרוֹת?

בְּקִבּוּץ תָּבוֹר כָּל פָּרָה נוֹתֶנֶת 3 לִיטָר בַּיּוֹם יוֹתֵר מֵאֲשֶׁר הַפָּרוֹת
שֶׁל קִבּוּץ גִּלְבוּעַ. בְּעֲדָר שֶׁל קִבּוּץ תָּבוֹר 10 פָּרוֹת.
כַּמָּה לִיטָרִים שֶׁל חֵלֶב יתנו הַעֲדָרִים שֶׁל שְׁנֵי הַקִּבּוּצִים בַּיַּחַד בַּח' דָּשׁ אִיר?



1

בְּקִבּוּץ גִּלְבוּעַ כָּל פָּרָה נוֹתֶנֶת בְּמִמְצָע 12 לִיטֵר חֵלֶב בַּיּוֹם.

כַּמָּה לִיטְרִים שֶׁל חֵלֶב בְּסֵךְ הַכֹּל יִתֵּן בַּח דָּשׁ אֶיֶר

הָעֵדֶר שֶׁל קִבּוּץ גִּלְבוּעַ הַמוֹנָה 8 פְּרוֹת?


העדר של קיבוץ גילבוע יתן 2,784 ליטר חלב בחודש אייר.

בְּקִבּוּץ תְּבוּר כָּל פָּרָה נוֹתֶנֶת 3 לִיטֵר בַּיּוֹם יוֹתֵר מֵאֲשֶׁר הַפְּרוֹת

שֶׁל קִבּוּץ גִּלְבוּעַ. בְּעֵדֶר שֶׁל קִבּוּץ תְּבוּר 10 פְּרוֹת.

כַּמָּה לִיטְרִים שֶׁל חֵלֶב יִתְּנוּ הָעֵדֶרִים שֶׁל שְׁנֵי הַקִּבּוּצִים בַּיַּחַד בַּח דָּשׁ אֶיֶר?

שני העדרים יתנו בסך הכל 7,134 ליטר חלב בחודש אייר.



1

שִׁירָה מְכִינָה שְׂרָשֶׁרֶת.

הַדְּגָמָה שְׁלָהּ הִיא : 4 חֲרוּזִים כְּחֻלִּים,

3 חֲרוּזִים אֲדָמִים

2 צְהָבִים

1 חֲרוּז אֶחָד יָרֵק.

הִיא עוֹשֶׂה פְּעָמִים אֶת אוֹתָהּ דְּגָמָה.

מִפְּנֵי שֶׁהַחוּט קָצָר מְדִי, שִׁירָה מִתְחִילָה מִחֲדָשׁ.

הִיא מוֹרִידָה חֲרוּז אֶחָד מִכָּל צֶבַע מֵהַדְּגָמָה.

כַּמָּה חֲרוּזִים מִכָּל צֶבַע יֵשׁ בְּשִׂרְשֶׁרֶת הַחֲדָשָׁה? _____

כַּמָּה חֲרוּזִים יֵשׁ בְּסֵךְ הַכֹּל בְּשִׂרְשֶׁרֶת הַחֲדָשָׁה? _____

1

שִׁירָה מְכִינָה שְׂרָשֶׁרֶת.

הַדְּגָמָה שְׁלֵהּ הִיא : 4 חֲרוּזִים כְּחֻלִּים,

3 חֲרוּזִים אֲדָמִים

2 צְהָבִים

וְחֲרוּז אֶחָד יָרֵק.

הִיא עוֹשֶׂה פְּעָמִים אֶת אוֹתָהּ דְּגָמָה.

מִפְּנֵי שֶׁהַחוּט קָצָר מְדִי, שִׁירָה מִתְחִילָה מִחֲדָשׁ.

הִיא מוֹרִידָה חֲרוּז אֶחָד מִכָּל צֶבַע מִהַדְּגָמָה.

כַּמָּה חֲרוּזִים מִכָּל צֶבַע יֵשׁ בְּשִׂרְשֶׁרֶת הַחֲדָשָׁה? _____

6 חֲרוּזִים כְּחוּלִים, 4 אֲדוּמִים, ו - 2 צְהוּבִים. _____

כַּמָּה חֲרוּזִים יֵשׁ בְּסֵךְ הַכ' לְ בְּשִׂרְשֶׁרֶת הַחֲדָשָׁה? 12 חֲרוּזִים. _____

1

המרחק מהגבעה לנהר הוא 75 מטרים.
 הקנגורו עובר אותו ב - 15 קפיצות שוות.
 מה המרחק שהקנגורו עובר בקפיצה אחת?

המרחק מהנהר לכפר הוא 125 מטרים.
 בכמה קפיצות הקנגורו יגיע מהנהר לכפר?



1

המרחק מהגבעה לנהר הוא 75 מטרים.
 הקנגורו עובר אותו ב - 15 קפיצות שוות.
 מה המרחק שהקנגורו עובר בקפיצה אחת?

 הקנגורו עובר 5 מטר בקפיצה אחת.

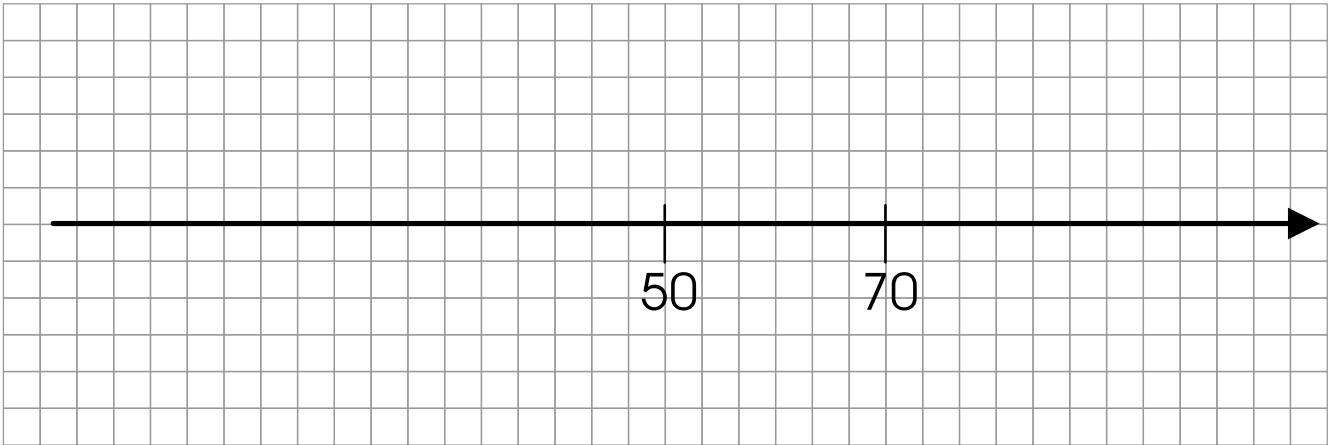
המרחק מהנהר לכפר הוא 125 מטרים.
 בכמה קפיצות הקנגורו יגיע מהנהר לכפר?

 הקנגורו יעבור את המרחק ב 25 קפיצות.



1

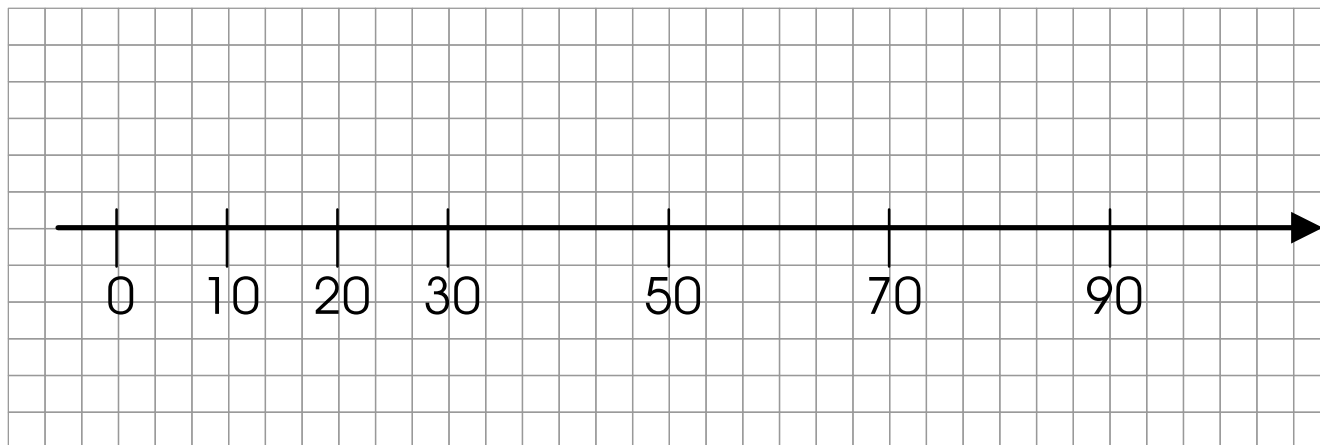
סמנו על ציר המספרים את המספרים הבאים: 0, 20, 10, 90, 30



הסבירו איך עשיתם את המשימה

1

סמנו על ציר המספרים את המספרים הבאים : 0 , 20 , 10 , 90 , 30



הסבירו איך עשיתם את המשימה
