

1

יש לכם 60 שקלים.

חפיסת שוקולד עולה 10 שקלים וחבילת ספריות עולה 5 שקלים.

אתם יכולים לקנות ספריות ושוקולד.

מה קניתם? כתבו שתי אפשרויות.

כמה כסף נשאר לכם לפי כל אחת מהאפשרויות?

אפשרות א

הקניה: _____

הכסף שנשאר: _____

אפשרות ב

הקניה: _____

הכסף שנשאר: _____

1

יש לך 60 שקלים.

חפיסת שוקולד עולה 10 שקלים וחבילת ספריות עולה 5 שקלים.

אתם יכולים לקנות ספריות ושוקולד.

מה קניתם? כתבו שתי אפשרויות.

כמה כסף נשאר לך לפי כל אחת מהאפשרויות?

אפשרות א

הקנייה: 3 חפיסות שוקולד ו- 3 חבילות סוכריות.

הכסף שנשאר: 15 שקלים.

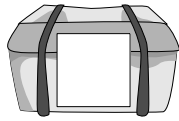
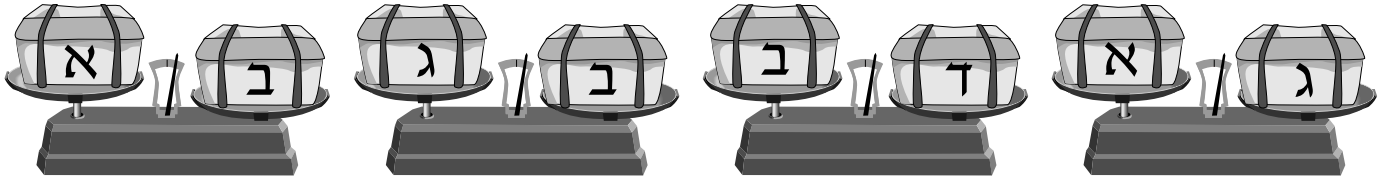
אפשרות ב

הקנייה: 5 חפיסות שוקולד וחבילת סוכריות אחת.

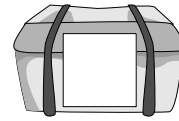
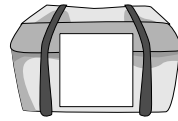
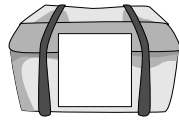
הכסף שנשאר: 5 שקלים.

1

כתבו את האותיות המתאימות על התבילות,
מהקבדה ביותר לקלה ביותר



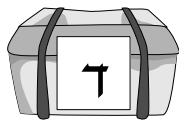
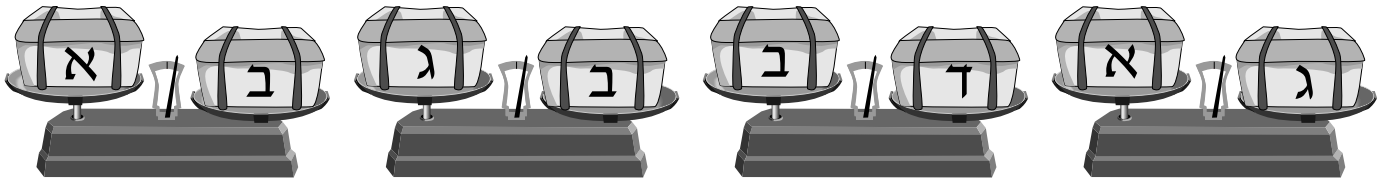
הקבדה ביותר



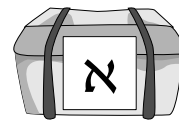
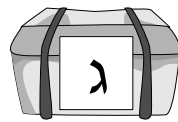
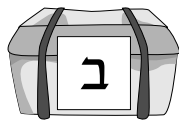
הקלה ביותר

1

כתבו את האותיות המתאימות על התבילות,
מהקבדה ביותר לקלה ביותר



הקבדה ביותר

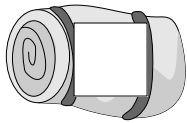


הקלה ביותר

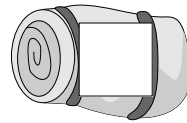
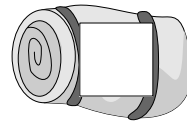
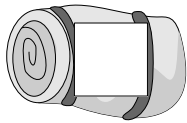
1

כתבו את האותיות המתאימות על החבילות,
מהכבדה ביותר לקלה ביותר

חבילה ב כבדה מחבילה ג וכבדה גם מחבילה ד.
חבילה ג שוקלת פחות מחבילה ד.
חבילה א היא הקלה ביותר.



הכבדה ביותר

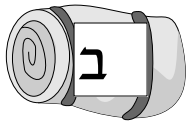


הקלה ביותר

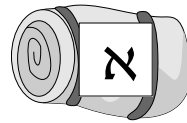
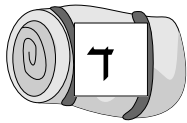
1

כתבו את האותיות המתאימות על החבילות,
מהכבדה ביותר לקלה ביותר

חבילה ב כבדה מחבילה ג וכבדה גם מחבילה ד.
חבילה ג שוקלת פחות מחבילה ד.
חבילה א היא הקלה ביותר.




הכבדה ביותר

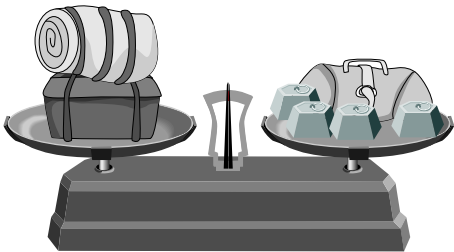
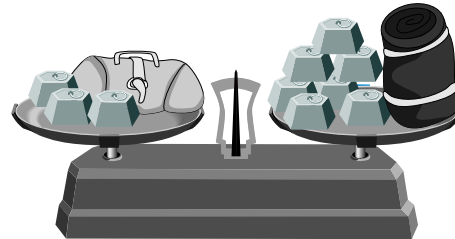
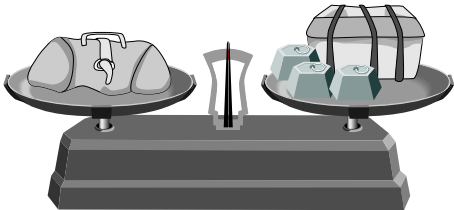
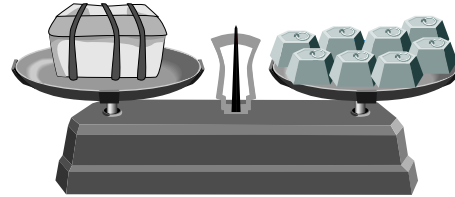
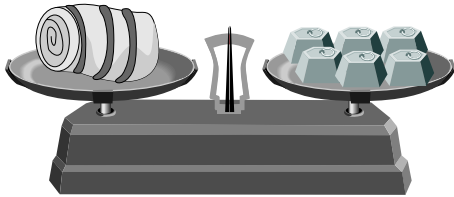


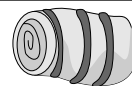




הקלה ביותר

1

השלימו את הטבלה


1 ק"ג = 

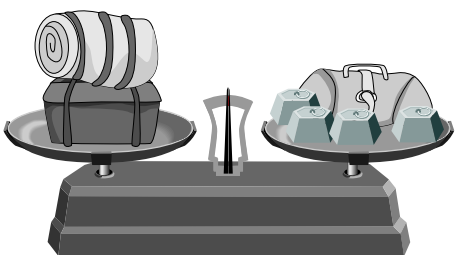
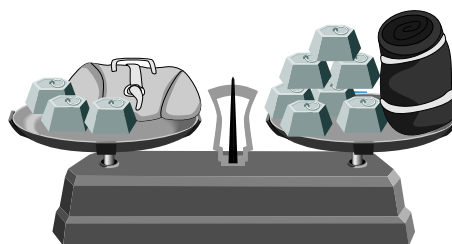
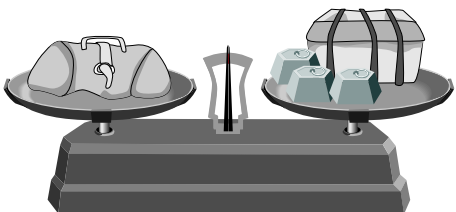
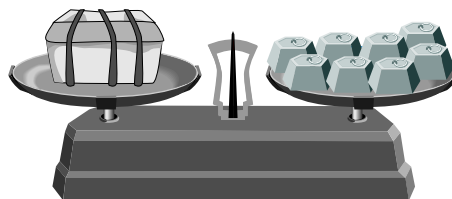
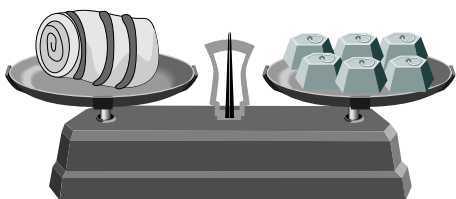


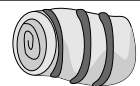

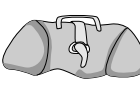

הממשקל (ק"ג)	החבילה
	
	
	
	
	

השלימו את הטבלה

1

1 ק"ג = 



המשקל (ק"ג)	החבילה
6	
8	
11	
7	
9	