

בעיות מילוליות חיבור בתחום ה-10



1. לרון היו 6 שקלים. הוא קיבל עוד 2 שקלים.

כמה שקלים יש לרון?

תרגיל:

תשובה:



2. אמא קנתה לרינת 8 מסטיקים. רינת קיבלה עוד 2 מסטיקים מטברותיה.

כמה מסטיקים יש לרינת?

תרגיל:

תשובה:



3. לדני יש 5 קלפים. הוא הרויח במשחק 4 קלפים.

כמה קלפים יש לדני?

תרגיל:

תשובה:




4. לשלי יש 3 בובות. היא קיבלה עוד 5 בובות ליום הולדתה.

כמה בבות יש לשלי?

תרגיל:

תשובה:



5. למיכל יש 6 מתברות. לאגל יש 3 מתברות.

כמה מתברות יש לשניהם ביחד?

תרגיל:

תשובה:

בעיות מילוליות חיבור בתחום ה-10



6. לרון היו 2 שקלים. הוא קיבל מאבא עוד שקל אחד.

כמה שקלים יש לרון בסך הכל?

תרגיל:

תשובה:



7. אמא קנתה לרינת 3 מסטיקים. אבא קנה לרינת 5 מסטיקים.

כמה מסטיקים יש לרינת?

תרגיל:

תשובה:



8. לדני יש 3 קלפים. הוא הרויח במשחק עוד 4 קלפים.

כמה קלפים יש לדני בסך הכל?

תרגיל:

תשובה:



9. למאיר יש 4 סופריות. לאיתי יש 5 סופריות.

כמה סופריות יש למאיר ולאיתי ביחד?

תרגיל:

תשובה:



10. מיכל קנתה תפיסת שוקולד אחת. אחיה אצל קנה 7 תפיסות שוקולד.

כמה תפיסות שוקולד יש לשניהם ביחד?

תרגיל:

תשובה:

בעיות מילוליות חיבור בתחום ה-10



11. למענין יש 6 בובות. ביום ההולדת שלה קיבלה עוד 4 בובות.

כמה בובות יש למענין?

תרגיל:

תשובה:




12. ליואב יש 6 כדורי רגל. הוא קיבל מאביו עוד 2 כדורי רגל.

כמה כדורים יש ליואב?

תרגיל:

תשובה:



13. רומי אכלה 7 סוכריות. אמיר אכל 2 סוכריות.

כמה סוכריות אכלו רומי ואמיר ביחד?

תרגיל:

תשובה:



14. לטל יש 2 אחים.

כמה ילדים יש במשפחה של טל?

תרגיל:

תשובה:



15. רני מצא 4 גולות אדומות. הוא קיבל מקברו עוד 4 גולות כחולות.

כמה גולות יש לרני?

תרגיל:

תשובה:

בעיות מילוליות חיסור בתחום ה-10

1. לרון היו 6 שקלים. הוא קנה ספרייה ב- 2 שקלים.

כמה שקלים נשארו לרון?

תרגיל:

תשובה:

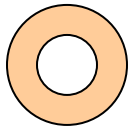


2. אמא קנתה לרינת 10 מסטיקים. רינת נתנה 5 מסטיקים לחברותיה.

כמה מסטיקים נשארו לרינת?

תרגיל:

תשובה:



3. לדני יש 8 קלפים. הוא הפסיד במשחק 4 קלפים.

כמה קלפים נשארו לדני?

תרגיל:

תשובה:



4. למאיר יש 9 סוכריות. הוא אכל 5 סוכריות.

כמה סוכריות נשארו למאיר?

תרגיל:

תשובה:



5. מיכל קנתה 7 תפיסות שוקולד. היא נתנה לאיל תפיסת שוקולד אחת.

כמה תפיסות שוקולד נשארו למיכל?

תרגיל:

תשובה:

בעיות מילוליות חיסור בתחום ה-10



6. לעידו היו 9 שקלים. הוא קנה ספרים ב- 4 שקלים.

כמה שקלים נשארו לעידו?

תרגיל:

תשובה:




7. אמא קנתה לשלי 10 מסטיקים. שלי נתנה 3 מסטיקים לחברותיה.

כמה מסטיקים נשארו לשלי?

תרגיל:

תשובה:



8. למוטי יש 6 קלפים. הוא הפסיד במשחק 4 קלפים.

כמה קלפים נשארו למוטי?

תרגיל:

תשובה:



9. לנעה יש 8 סוכריות. היא אכלה 2 סוכריות.

כמה סוכריות נשארו לנעה?

תרגיל:

תשובה:




10. בחוג לשחמט היו 10 ילדים. 6 ילדים פרשו.

כמה ילדים נשארו בחוג?

תרגיל:

תשובה:

חיבור וחיסור בתחום ה 10



1. לרונית היו 7 שקלים. היא קנתה ספרייה ב- 3 שקלים.

כמה שקלים נשארו לרונית?

תרגיל:

תשובה:




2. אמא קנתה לעינת 3 מסטיקים. עינת נתנה 2 מסטיקים לחברותיה.

כמה מסטיקים נשארו לעינת?

תרגיל:

תשובה:




3. לדני יש 8 קלפים. הוא הרויח במשחק 2 קלפים.

כמה קלפים יש לדני?

תרגיל:

תשובה:



4. לשירה יש 2 בלונים. היא קיבלה עוד 5 בלונים.

כמה בלונים יש לשירה?

תרגיל:

תשובה:



5. בר קנתה 6 תפיסות שוקולד. היא נתנה לאגיל תפיסת שוקולד אחת.

כמה תפיסות שוקולד נשארו לבר?

תרגיל:

תשובה:

בעיות מילוליות חיסור בתחום ה-10




6. לשיר היו 6 שקלים. היא קיבלה מאבא עוד 2 שקלים.

כמה שקלים יש לשיר בסך הכל?

תרגיל:

תשובה:



7. אמא קנתה לרינת 4 חולצות. סבתא קנתה לרינת עוד חולצה.

כמה חולצות יש לרינת?

תרגיל:

תשובה:



8. לגבריאל יש 6 גורי חתולים. הוא נתן 4 גורים.

כמה גורים נשארו?

תרגיל:

תשובה:



9. לליטל יש 3 בובות. היא קיבלה ליום הולדתה עוד 6 בובות.

כמה בובות יש לליטל?

תרגיל:

תשובה:



10. מיכל קנתה 2 עפרונות. אח שלה הוֹנֵמן קנה 7 עפרונות.

כמה עפרונות יש לשניהם ביחד?

תרגיל:

תשובה:
