

שם: _____

$8+2=$

$10-3=$


$3+7=$

$6+4=$


$10-5=$

$10-9=$

ציור



6 - 1



לדני 4

כמה חיות לדני בסך- הכל?

תרגיל: _____

תשובה: לדני חיות בסך- הכל.

שם: _____

$5+2=$

$6-3=$


$8+2=$

$6+4=$

$10-2=$

$10-3=$

ציור



2 - 1



לדני 4

כמה חיות לדני בסך- הכל?

תרגיל: _____

תשובה: לדני חיות בסך- הכל.

שם: _____

$1+8= \square$

$9-9= \square$

$9-3= \square$

$6+3= \square$

$7+2= \square$

$9-5= \square$

ציור

לדני היו 9 עגבניות. דני אכל 2 עגבניות.



כמה עגבניות נשארו לדני?

תרגיל: _____

תשובה: לדני נשארו עגבניות.

שם: _____

$1+8= \square$

$9-9= \square$

$9-3= \square$

$6+3= \square$

$7+2= \square$

$9-5= \square$

ציור

לדני היו 9 עגבניות. דני אכל 2 עגבניות.



כמה עגבניות נשארו לדני?

תרגיל: _____

תשובה: לדני נשארו עגבניות.

שם: _____

$1+7= \square$

$8-0= \square$


$8-3= \square$

$5+3= \square$

$6+2= \square$

$8-4= \square$

ציור



בבית היו 8 ילדים. 2 יצאו לגנה.

כמה ילדים נשארו בבית?

תרגיל: _____

תשובה: בבית נשארו ילדים.

שם: _____

$1+7= \square$

$8-0= \square$

$8-3= \square$

$5+3= \square$

$6+2= \square$

$8-4= \square$

ציור



בבית היו 8 ילדים. 2 יצאו לגנה.

כמה ילדים נשארו בבית?

תרגיל: _____

תשובה: בבית נשארו ילדים.

שם: _____

$1+5= \square$

$6-6= \square$

$6-3= \square$

$3+3= \square$

$4+2= \square$

$6-4= \square$

ציור

לשון יש 6 ספריות בסך-הכל.

3 אדומות והשאר כחולות .

כמה ספריות כחולות לשון?

תרגיל: _____

תשובה: לשון ספריות כחולות.

שם: _____

$1+5= \square$

$6-6= \square$

$6-3= \square$

$3+3= \square$

$4+2= \square$

$6-4= \square$

ציור

לשון יש 6 ספריות בסך-הכל.


3 אדומות והשאר כחולות .

כמה ספריות כחולות לשון?

תרגיל: _____

תשובה: לשון ספריות כחולות.

שם: _____



לשון יש 8 בלונים בסך-הכל.


3 אדומים והשאר כחולים.

כמה בלונים כחולים לשון?

תרגיל: _____

תשובה: לשון בלונים כחולים.

כתב 2 תרגילי חיבור ושני תרגילי חיסור:



$$\underline{\quad} - \underline{\quad} = \underline{\quad}$$

$$\underline{\quad} + \underline{\quad} = \underline{\quad}$$

$$\underline{\quad} - \underline{\quad} = \underline{\quad}$$

$$\underline{\quad} + \underline{\quad} = \underline{\quad}$$

$9+1= \square$

$9-6= \square$

$8-3= \square$

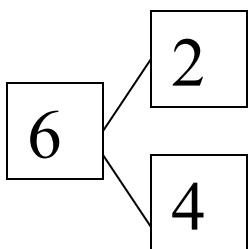
$7+3= \square$

$4+6= \square$

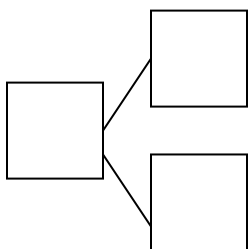
$7-5= \square$

שם: _____


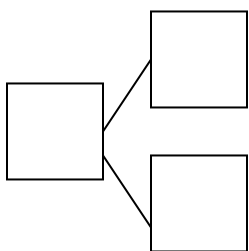
כתב 2 תרגילי חיבור ושני תרגילי חיסור:



$$\underline{\quad} - \underline{\quad} = \underline{\quad} \qquad \underline{\quad} + \underline{\quad} = \underline{\quad}$$
$$\underline{\quad} - \underline{\quad} = \underline{\quad} \qquad \underline{\quad} + \underline{\quad} = \underline{\quad}$$



$$\underline{\quad} - \underline{\quad} = \underline{\quad} \qquad \underline{\quad} + \underline{\quad} = \underline{\quad}$$
$$\underline{\quad} - \underline{\quad} = \underline{\quad} \qquad \underline{\quad} + \underline{\quad} = \underline{\quad}$$



$$\underline{\quad} - \underline{\quad} = \underline{\quad} \qquad \underline{\quad} + \underline{\quad} = \underline{\quad}$$
$$\underline{\quad} - \underline{\quad} = \underline{\quad} \qquad \underline{\quad} + \underline{\quad} = \underline{\quad}$$

