

1











יוֹנְתָן וְרָנִי הִמְצִיאוּ מִשְׁחָק.  
 כָּל אֶחָד מֵהֶם זִוְרַק קִבְיָה אַחַת וּמִי שֶׁקִּבֵּל אֶת הַמִּסְפָּר הַגָּבוֹה יוֹתֵר  
 מִתְקַדֵּם לְפִי הַהִפְרָשׁ בֵּין הַקִּבְיּוֹת.  
 אִם לִשְׁנֵיהֶם יָצָא אוֹתוֹ מִסְפָּר, אָף אֶחָד לֹא מִתְקַדֵּם.  
 אִם לֹא מִגִּיעִים בְּדִיוֹק לְסוּף, חוֹזְרִים לְהִתְחַלָּה.

בַּמִּשְׁחָק הָרִאשׁוֹן יוֹנְתָן נָצַח.  
 בַּטֶּבֶל הַכְּתוּבִי אֶת הַהִפְרָשׁ בֵּין הַקִּבְיּוֹת  
 (כְּלוּמַר אֶת מִסְפְּרֵי הַצְּעָדִים שֶׁכָּל אֶחָד הִתְקַדֵּם),  
 הַשְּׁלִימוּ אֶת הַקִּבְיּוֹת עִם מִסְפְּרֵי מִתְאִימִים לְפִי הַדְּגֻמָּה

הַצְּעָדִים

יוֹנְתָן	רָנִי
	3
4	
	1
	4
5	

הַקִּבְיּוֹת

יוֹנְתָן	רָנִי
	
	
	
	
	

סוּף								הִתְחַלָּה
------	--	--	--	--	--	--	--	------------

1

יוֹנְתָן וְרִנָּי הִמְצִיאוּ מִשְׁחָק.  
 כָּל אֶחָד מֵהֶם זֹרֵק קְבִיָּה אַחַת וּמִי שֶׁקִּבֵּל אֶת הַמִּסְפָּר הַגָּבוֹה יוֹתֵר  
 מֵתִקְדֵם לְפִי הַהֶפְרֵשׁ בֵּין הַקְּבִיּוֹת.  
 אִם לִשְׁנֵיהֶם יָצָא אוֹתוֹ מִסְפָּר, אָף אֶחָד לֹא מֵתִקְדֵם.  
 אִם לֹא מִגִּיעִים בְּדִיוֹק לְסוּף, חוֹזְרִים לְהִתְחַלָּה.

בְּמִשְׁחָק הָרֵאשׁוֹן יוֹנְתָן נִצָּח.  
 בְּטִבְלָה כְּתַבְנוּ אֶת הַהֶפְרֵשׁ בֵּין הַקְּבִיּוֹת  
 (כְּלוּמַר אֶת מִסְפַּר הַצְּעָדִים שֶׁכָּל אֶחָד הִתְקַדֵּם),  
 הִשְׁלִימוּ אֶת הַקְּבִיּוֹת עִם מִסְפָּרִים מֵתַאימִים לְפִי הַדְּגָמָה

הַצְּעָדִים

יוֹנְתָן	רִנָּי
	3
4	
	1
	4
5	

הַקְּבִיּוֹת

יוֹנְתָן	רִנָּי
2	5
6	2
3	4
1	5
6	1

סוּף									הִתְחַלָּה
------	--	--	--	--	--	--	--	--	------------

1

בחרו מספר בין 0 ל- 4.

הוסיפו למספר 3, הוסיף 5, הורד 2, הורד את המספר שבחרת, הוסיף 1.

לאיזה מספר הגעת? \_\_\_\_\_

חזרו על התרגיל עם מספר התחלתי שונה. מה גלית? \_\_\_\_\_

\_\_\_\_\_

נסו להסביר מה קורה. \_\_\_\_\_

\_\_\_\_\_

\_\_\_\_\_

\_\_\_\_\_

\_\_\_\_\_

1

בחרו מספר בין 0 ל- 4.

הוסיפו למספר 3, הוסיף 5, הורד 2, הורד את המספר שבחרת, הוסיף 1.

לאיזה מספר הגעת? 7 \_\_\_\_\_

חזרו על התרגיל עם מספר התחלתי שונה. מה גלית? \_\_\_\_\_

קיבלתי את אותו המספר. \_\_\_\_\_

נסו להסביר מה קורה. \_\_\_\_\_

\_\_\_\_\_

\_\_\_\_\_

\_\_\_\_\_

\_\_\_\_\_

1

בחרו מספר בין 0 ל- 4.

הוסיפו למספר 3, הוסיף 5, הורד 2, הורד את המספר שבחרת, הוסיף 1.

לאיזה מספר הגעת? \_\_\_\_\_

חזרו על התרגיל עם מספר התחלתי שונה. מה גלית? \_\_\_\_\_

\_\_\_\_\_

נסו להסביר מה קורה. \_\_\_\_\_

\_\_\_\_\_

\_\_\_\_\_

\_\_\_\_\_

\_\_\_\_\_

1

בחרו מספר בין 0 ל- 4.

הוסיפו למספר 3, הוסיף 5, הורד 2, הורד את המספר שבחרת, הוסיף 1.

לאיזה מספר הגעת? 7

חזרו על התרגיל עם מספר התחלתי שונה. מה גלית?

קיבלתי את אותו המספר.

נסו להסביר מה קורה.

---



---



---



---



---

2

יוֹנְתָן וְרִנָּה הִמְצִיאוּ מִשְׂחָק.

כָּל אֶחָד מֵהֶם זֹרַק קְבִיָּה אַחַת וּמִי שֶׁקִּבֵּל אֶת הַמִּסְפָּר הַגָּבוֹה יוֹתֵר מִתְקַדֵּם לְפִי הַהִפְרָשׁ בֵּין הַקְּבִיּוֹת.

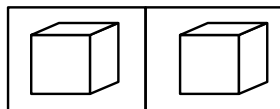
אִם לִשְׁנֵיהֶם יֵצֵא אוֹתוֹ מִסְפָּר, אָף אֶחָד לֹא מִתְקַדֵּם.

אִם לֹא מִגִּיעִים בְּדִיוֹק לְסוֹף, חוֹזְרִים לַהֲתַחֲלָה.

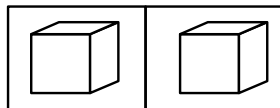
הַקְּבִיּוֹת

רִנָּה	יוֹנְתָן
5	3
4	5
6	2
4	2
4	6
5	1
2	4
6	4

הַתְּחִלָּה										סוֹף
-------------	--	--	--	--	--	--	--	--	--	------



הִשְׁלִימוּ אֶת הַטִּבְלָה כְּדֵי שֶׁיוֹנְתָן יִנָּצֵחַ



הִשְׁלִימוּ אֶת הַטִּבְלָה כְּדֵי שֶׁרִנָּה תִּנָּצֵחַ

2

יוֹנְתָן וְרִיבְכָה הִמְצִיאוּ מִשְׁחָק.

כָּל אֶחָד מֵהֶם זֹרַק קְבִיָּה אַחַת וּמִי שֶׁקִּבֵּל אֶת הַמִּסְפָּר הַגָּבוֹה יוֹתֵר מִתְקַדֵּם לְפִי הַהִפְרָשׁ בֵּין הַקְּבִיּוֹת.

אִם לִשְׁנֵיהֶם יֵצֵא אוֹתוֹ מִסְפָּר, אָף אֶחָד לֹא מִתְקַדֵּם.

אִם לֹא מִגִּיעִים בְּדִיוֹק לְסוּף, חוֹזְרִים לַהֲתַחֲלָה.

הַקְּבִיּוֹת

רִיבְכָה	יוֹנְתָן
5	3
4	5
6	2
4	2
4	6
5	1
2	4
6	4

הַתְּחִלָּה										סוּף
-------------	--	--	--	--	--	--	--	--	--	------

1	5
---	---

הִשְׁלִימוּ אֶת הַטִּבְלָה כְּדֵי שֶׁיוֹנְתָן יִנְצֵחַ

6	1
---	---

הִשְׁלִימוּ אֶת הַטִּבְלָה כְּדֵי שֶׁרִיבְכָה יִנְצֵחַ



3

יונתן ור נִי המציאו משחק.

כָּל אֶחָד מֵהֶם זֹרֵק קְבִיָּה אַחַת וּמִי שֶׁקִּבֵּל אֶת הַמְסָפֵר הַגְּבוּלָה יוֹתֵר מִתְקַדֵּם לְפִי הַהֶפְרָשׁ בֵּין הַקְּבִיּוֹת.  
אִם לִשְׁנֵיהֶם יָצָא אוֹתוֹ מְסָפֵר, אָף אֶחָד לֹא מִתְקַדֵּם.

יונתן ור נִי מְמַשִּׁיכִים לְשֵׁחַק אֶת הַמְשֻׁחָק שֶׁהִמְצִיאוּ  
אֲבָל הַפֶּעַם כָּל אֶחָד מֵהֶם מִתְחִיל מִקְצָה אַחֵר שֶׁל הַלוּחַ  
וְהֵם מִתְקַדְּמִים אֶחָד אֶל הַשֵּׁנִי.  
סִמְנוּ בְּאִיזוֹ מְשֻׁבָּצָת הֵם יִפְגְּשׁוּ

הַקְּבִיּוֹת

ר נִי	יונתן ור
5	3
4	5
3	4
4	6
5	1
1	5

נִי																				יונתן ור
-----	--	--	--	--	--	--	--	--	--	--	--	--	--	--	--	--	--	--	--	----------

3

יוֹנְתָן וְרִנֵּי הִמְצִיאוּ מִשְׂחָק.  
כָּל אֶחָד מֵהֶם זֹרַק קְבִיָּה אַחַת וּמִי שֶׁקִּבֵּל אֶת הַמְסֻפָּר הַגָּבוֹה יוֹתֵר  
מִתְקַדֵּם לְפִי הַהֶפְרָשׁ בֵּין הַקְּבִיּוֹת.  
אִם לִשְׁנֵיהֶם יֵצֵא אוֹתוֹ מִסֻּפָּר, אָף אֶחָד לֹא מִתְקַדֵּם.

יוֹנְתָן וְרִנֵּי מִמְשִׁיכִים לְשַׂחֵק אֶת הַמִּשְׂחָק שֶׁהִמְצִיאוּ  
אָבֵל הַפֶּעַם כָּל אֶחָד מֵהֶם מִתְחִיל מִקְצָה אַחֵר שֶׁל הַלוּחַ  
וְהֵם מִתְקַדְּמִים אֶחָד אֶל הַשֵּׁנִי.  
סִמְנּוּ בְּאִיזוֹ מִשְׁבָּצַת הֵם יִפְגְּשׁוּ



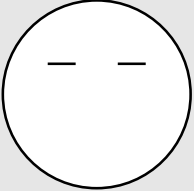

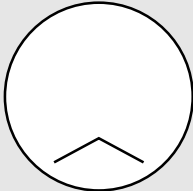


הַקְּבִיּוֹת

רִנֵּי	יוֹנְתָן
5	3
4	5
3	4
4	6
5	1
1	5

רִנֵּי																		יוֹנְתָן
--------	--	--	--	--	--	--	--	--	--	--	--	--	--	--	--	--	--	----------

## השלימו את הטבלה

1

			
			
	1	2	3
			
	4	5	6
			
	7	8	9

תארו במלים את הפרצוף הנמצא במשבצת מספר 7

\_\_\_\_\_

האם כל הפרצופים שונים? \_\_\_\_\_

אם כן, למה? \_\_\_\_\_

השלימו את הטבלה

1

	1	2	3
	4	5	6
	7	8	9

תארו במלים את הפרצוף הנמצא במשבצת מספר 7

שמת.

האם כל הפרצופים שונים? כן

אם כן, למה? כי העמודות והשורות שונות.