
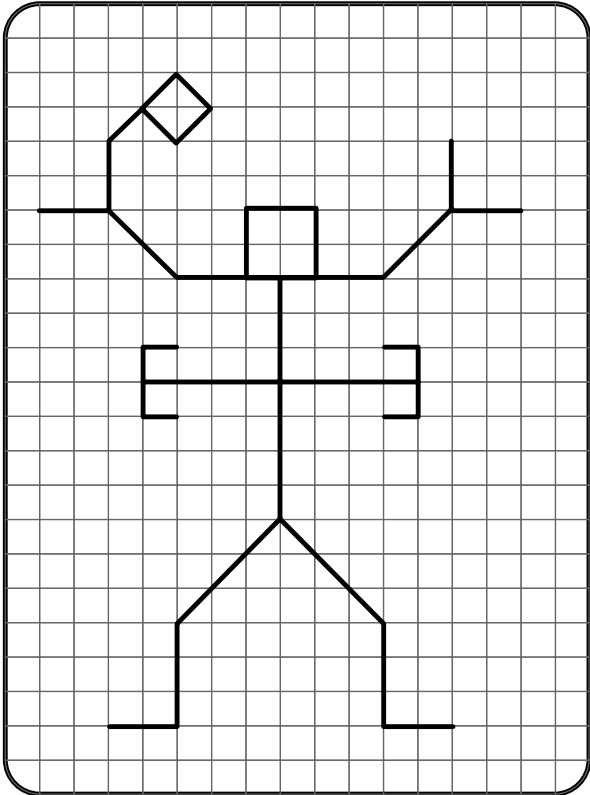


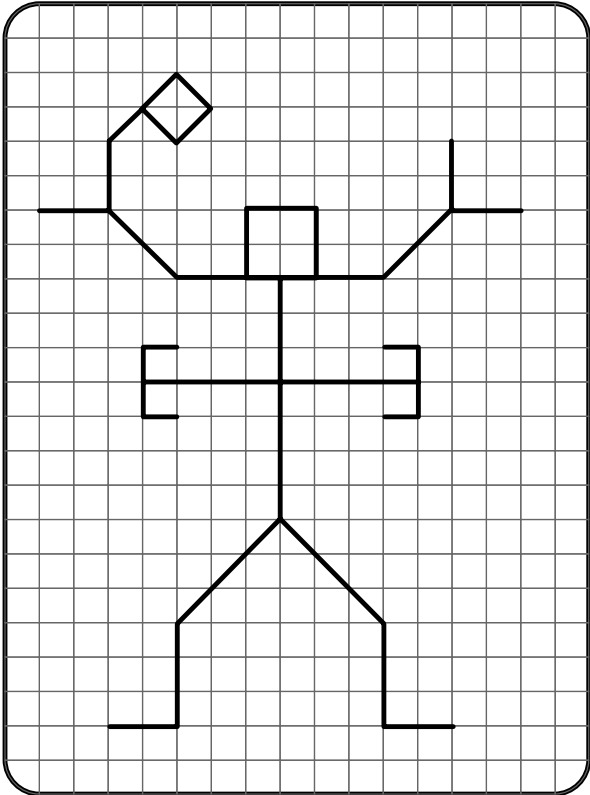
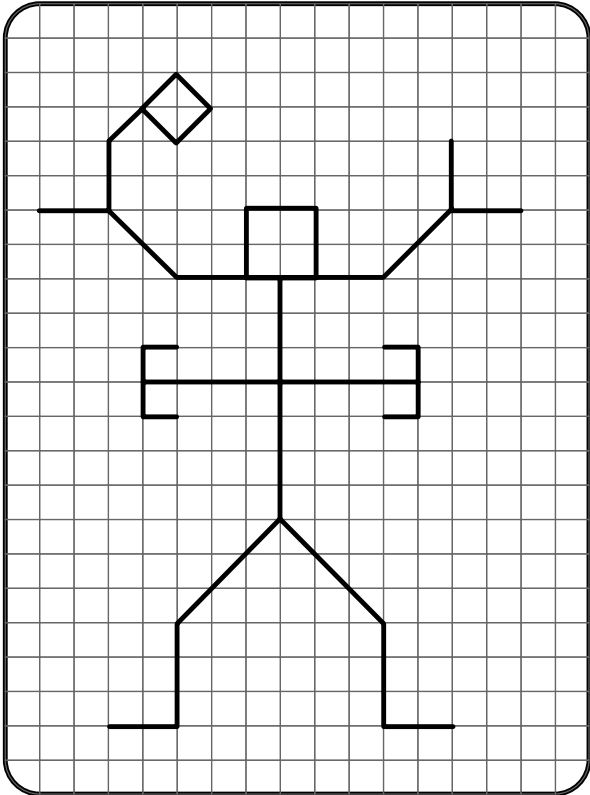
1

הַעֲתִיקוּ אֶת הַצּוּרָה הַבָּאָה בְּעֶזְרַת הַמְּשַׁבְּצוֹת




1

העתיקו את הצורה הבאה בעזרת המשבצות

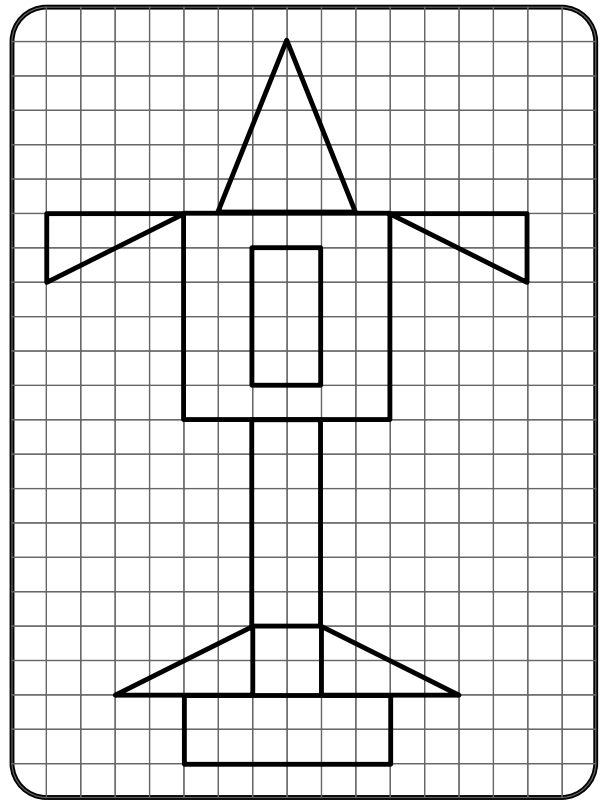



1

לְרִשׁוּתְכֶם הַצּוּרוֹת הַבָּאוֹת : (אֲתָה יָכֹל לְהַכִּיֵּן אוֹתָן בְּעֶצְמְךָ)



הַעֲתִיקוּ אֶת הַצִּיּוֹר הַבָּא בְּעִזְרַת הַצּוּרוֹת




מְלֵאוּ אֶת הַטֶּבֶלָה לְפִי הַצִּיּוֹר

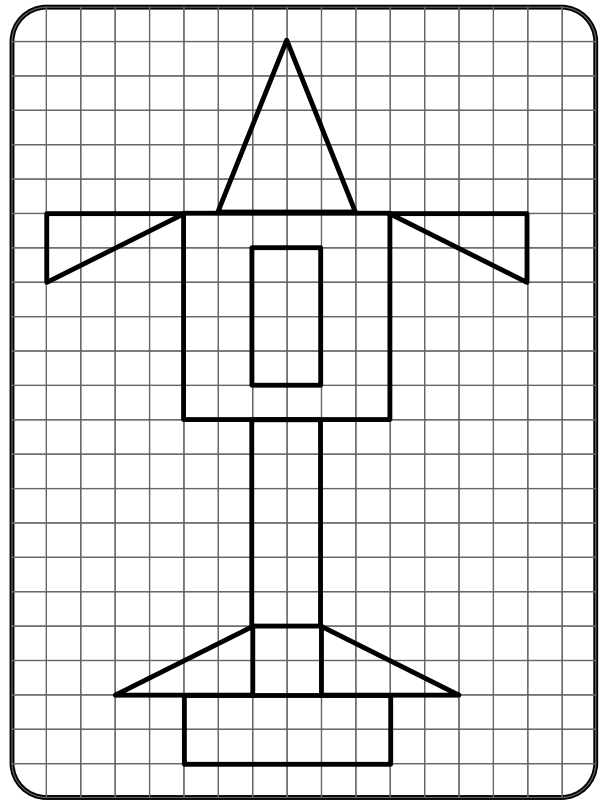
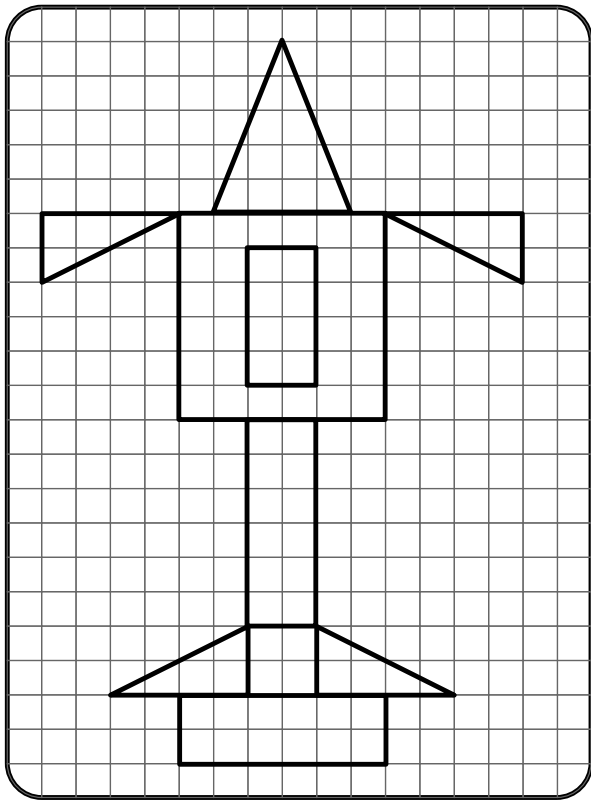
					הַצּוּרָה
					הַכְּמוֹת

1

לְרִשׁוּתְכֶם הַצּוּרֹת הַבָּאוֹת : (אֲתָה יָכֹל לְהַכִּיֵּן אוֹתָן בְּעֶצְמְךָ)



הַעֲתִיקוּ אֶת הַצִּיּוֹר הַבָּא בְּעִזְרַת הַצּוּרֹת



מְלֵאוּ אֶת הַטֶּבֶלָה לְפִי הַצִּיּוֹר

					הַצּוּרָה
2	1	4	1	1	הַכְּמוּת

1

טל נמוך מאיתן אבל יותר גבוה מאלון.
כתבו את שמות הילדים מהנמוך לגבוה

הכי נמוך

הכי גבוה

2

לדינה יש יותר מדבקות מבתה, ופחות מגילה.
לאילה יש יותר מדבקות מבתה ופחות מדינה.
כתבו את שמות הילדות לפי כמות המדבקות שיש להן

הכי פחות

הכי הרבה

1

טל נמוך מאיתן אבל יותר גבוה מאלון.
כתבו את שמות הילדים מהנמוך לגבוה

אלון
הכי נמוך

טל

איתן
הכי גבוה

2

לדינה יש יותר מדבקות מבתיה, ופחות מגילה.
לאילה יש יותר מדבקות מבתיה ופחות מדינה.
כתבו את שמות הילדות לפי כמות המדבקות שיש להן

בתיה
הכי פחות

אילה

דינה

גילה
הכי הרבה