

1

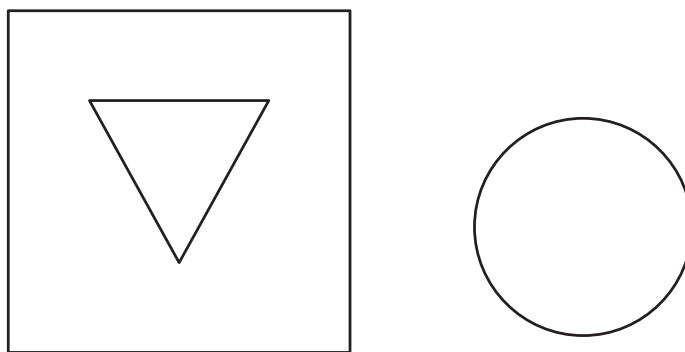
ציירו רבוע, משלש בתוך הרבוע, ומעגל מימין לרבוע

2

כתבו משימה דומה ובצע אותה

1

ציירו רבוע, משלש בתוך הרבוע, ומעגל מימין לרבוע

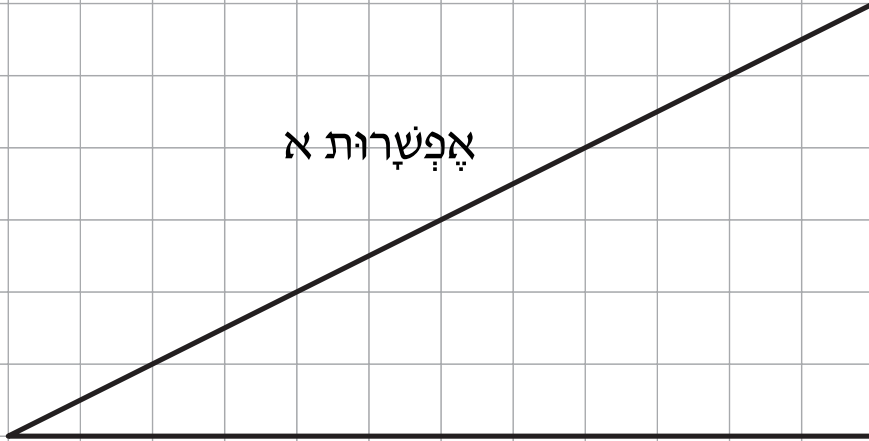


2

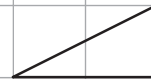
כתבו משימה דומה ובצע אותה

1

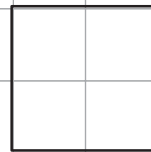
אַפְשָׁרוֹת א



לְאִיִּתְמָר יֵשׁ מְלַבְנִים



מְשִׁלְשִׁים




בְּלִי הַגְּבֻלָּה.

וְרַבּוּעִים

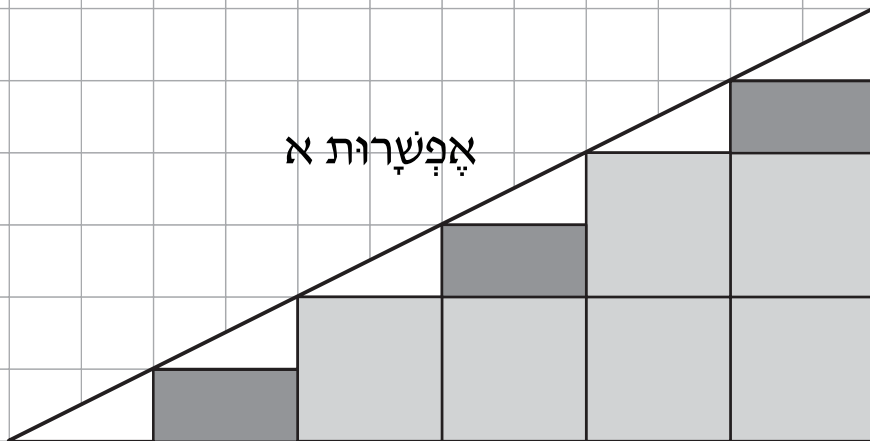
הוא רוֹצֵה לְמַלֵּא אֶת הַמְּשִׁלֵּשׁ הַגָּדוֹל
בְּעֶזְרַת מְלַבְנִים מְשִׁלְשִׁים וְרַבּוּעִים אֵלוֹ.

מְצֵאוּ 2 אַפְשָׁרִיּוֹת שׁוֹנוֹת לְמַלּוֹי הַמְּשִׁלֵּשׁ

אַפְשָׁרוֹת ב



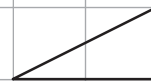
1



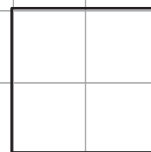
אפשרות א



לאיתמר יש מלבנים



משלשים

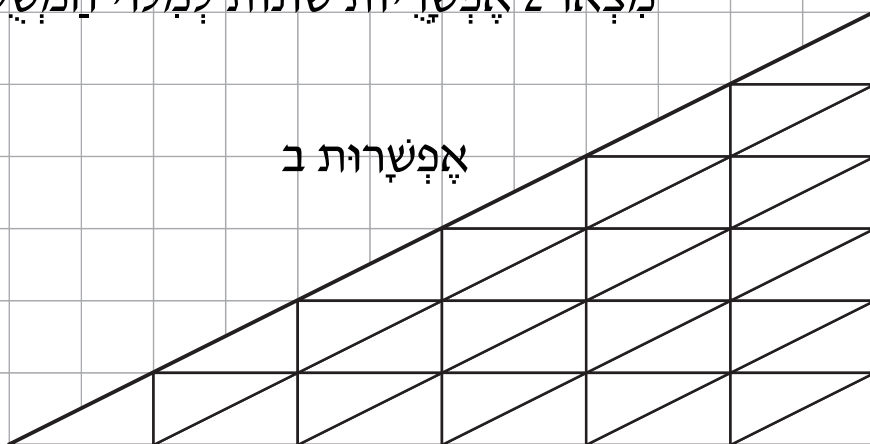


ורבועים

בלי הגבלה.

הוא רוצה למלא את המשלש הגדול בעזרת מלבנים משלשים ורבועים אלו.

מצאו 2 אפשרויות שונות למלוי המשלש

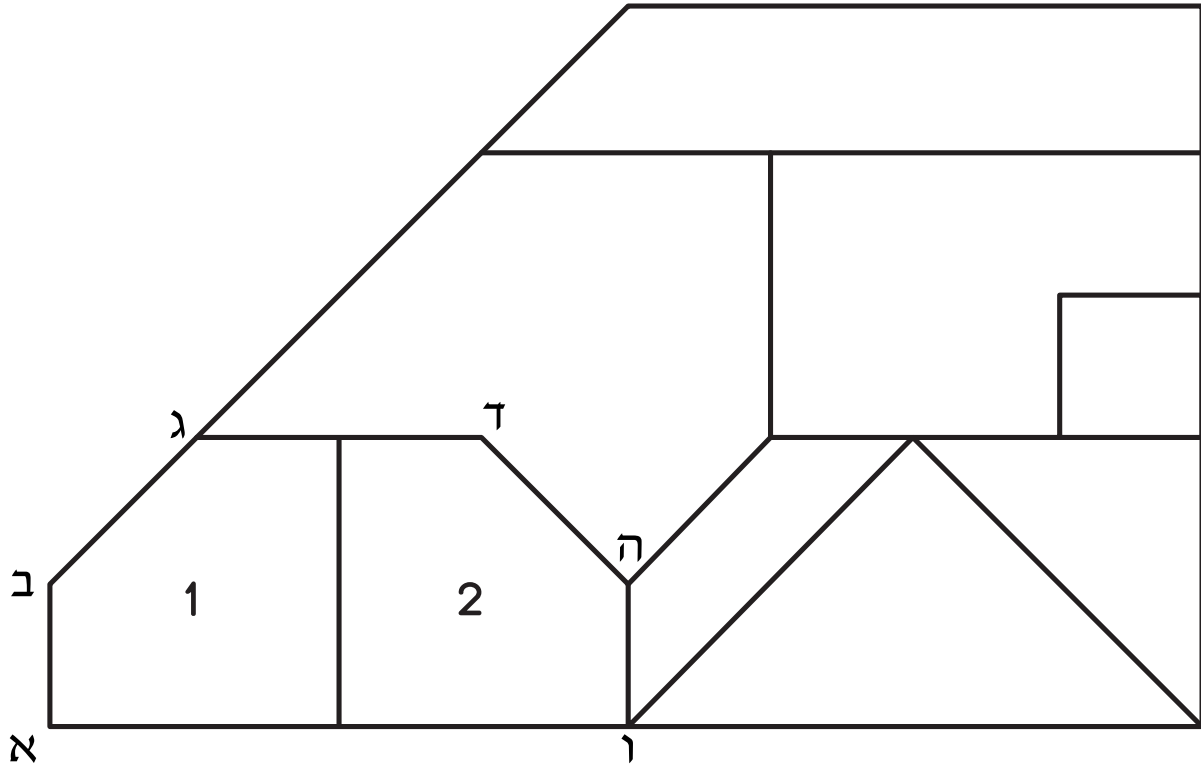


אפשרות ב

מְצַלְעִים : קְדָקְדִים וְצַלְעוֹת

עמודים 151-150 בספר לתלמיד

1



צָבְעוּ בְּאֵדָם אֶת הַמְּחַמְשִׁים,

בְּכַח ל אֶת הַמְּרֻבְּעִים,

בְּצֵה ב אֶת הַמְּשֻׁלְשָׁים,

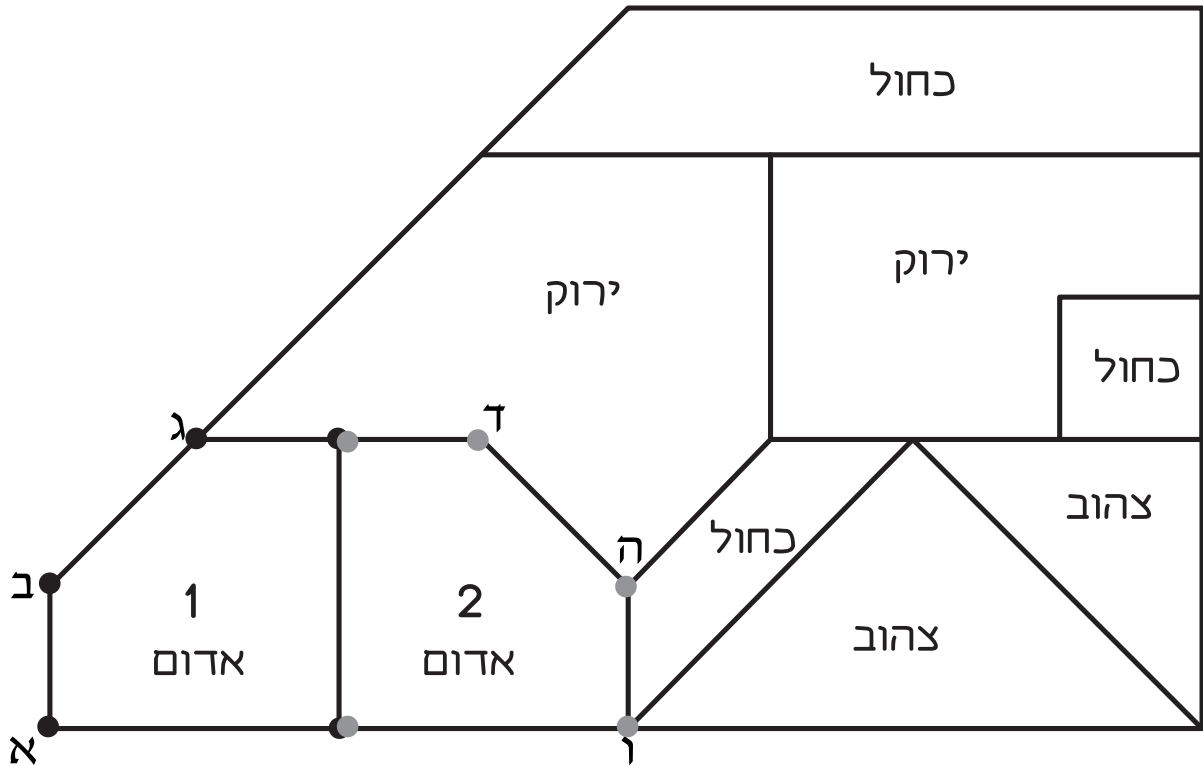
בְּיָרָק אֶת הַמְּשֻׁשִׁים

סַמְנוּ בְּנִקְדוֹת שֶׁח רֹוֹת אֶת הַקְּדָקְדִים שֶׁל מְצַלְע 1

וּבְנִקְדוֹת אֲדָמוֹת אֶת הַקְּדָקְדִים שֶׁל מְצַלְע 2

מָה הַצּוֹרָה שֶׁל מְצַלְע א-ב-ג-ד-ה-ו

1



צַבְעוּ בְּאֵדָם אֶת הַמְּחַמְשִׁים,
 בְּכַח ל' אֶת הַמְּרַבְעִים,
 בְּצֵה ב' אֶת הַמְּשַׁלְשִׁים,
 בְּיָרֵק אֶת הַמְּשַׁשִּׁים

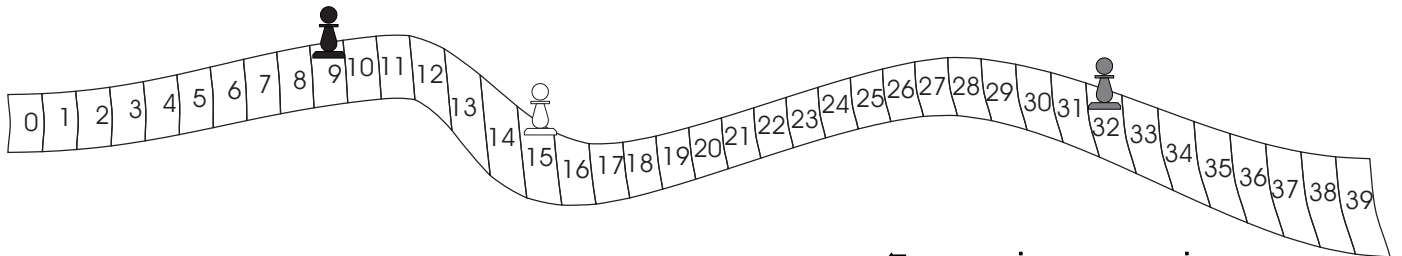
סַמְנוּ בְּנִקְדוֹת שֶׁח' רוֹת אֶת הַקְּדָקְדִים שֶׁל מְצַלְעַת 1
 וּבְנִקְדוֹת אֲדָמוֹת אֶת הַקְּדָקְדִים שֶׁל מְצַלְעַת 2

מָה הַצּוּרָה שֶׁל מְצַלְעַת א-ב-ג-ד-ה-ו

משושה

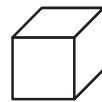
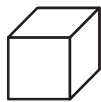
1

כָּל מְשִׁתָּתְךָ בְּמִשְׁחָק זֶרֶק שְׁתֵּי קַבִּיּוֹת, קַבִּיָּה אֲדָמָה וְקַבִּיָּה צְהָבָה.
הַקַּבִּיָּה הָאֲדָמָה אוֹמַרְתָּ לְהִתְקַדֵּם לְפִי הַמִּסְפָּר שֶׁיֵּצֵא,
וְהַקַּבִּיָּה הַצְּהָבָה אוֹמַרְתָּ לָלֶכֶת אַחֲרָה לְפִי הַמִּסְפָּר שֶׁיֵּצֵא.

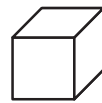
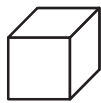


עַדוֹ הָיָה בְּמִשְׁבָּצַת 7.

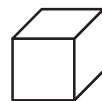
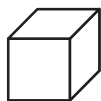
הוּא זֶרֶק אֶת שְׁתֵּי הַקַּבִּיּוֹת וְעָכְשׁוּ הוּא בְּמִשְׁבָּצַת 9.
צְבָעוּ אֶת הַקַּבִּיּוֹת וּכְתְבוּ אֶת הַמִּסְפָּרִים הַמְתְּאִימִים



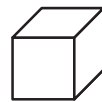
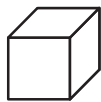
או



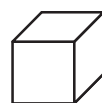
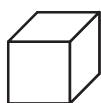
או



הִלָּה הָיְתָה בְּמִשְׁבָּצַת 11. עָכְשׁוּ הִיא בְּמִשְׁבָּצַת 15.
צְבָעוּ אֶת הַקַּבִּיּוֹת וּכְתְבוּ אֶת הַמִּסְפָּרִים הַמְתְּאִימִים

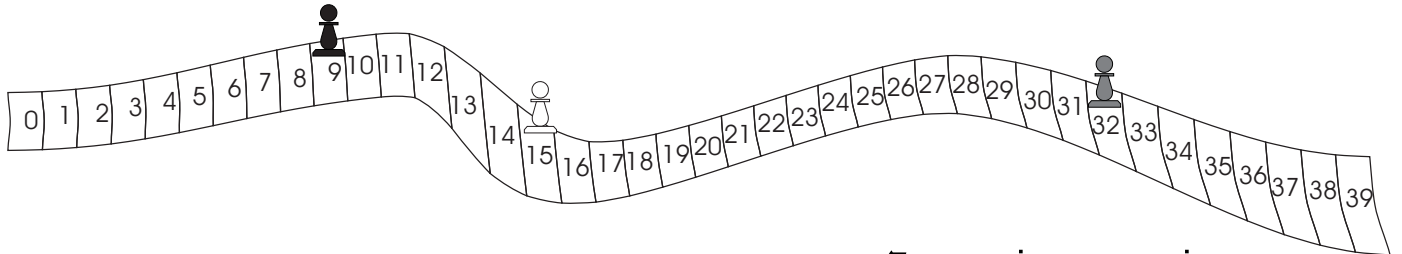


או



1

כָּל מְשִׁתָּתְךָ בְּמִשְׁחָק זֶרֶק שְׁתֵּי קִבִּיּוֹת, קִבִּיָּה אֲדָמָה וְקִבִּיָּה צְהָבָה.
הַקִּבִּיָּה הָאֲדָמָה אוֹמַרְתָּ לְהִתְקַדֵּם לְפִי הַמִּסְפָּר שֶׁיֵּצֵא,
וְהַקִּבִּיָּה הַצְּהָבָה אוֹמַרְתָּ לָלֶכֶת אַחֲרָה לְפִי הַמִּסְפָּר שֶׁיֵּצֵא.



עֲדוֹ הִיָּה בְּמִשְׁבָּצַת 7.

הוּא זֶרֶק אֶת שְׁתֵּי הַקִּבִּיּוֹת וְעִכְשָׁו הוּא בְּמִשְׁבָּצַת 9.
צְבְּעוּ אֶת הַקִּבִּיּוֹת וְכִתְבוּ אֶת הַמִּסְפָּרִים הַמִּתְאִיָּמִים



או



או



הִלָּה הִיָּתָה בְּמִשְׁבָּצַת 11. עִכְשָׁו הִיא בְּמִשְׁבָּצַת 15.
צְבְּעוּ אֶת הַקִּבִּיּוֹת וְכִתְבוּ אֶת הַמִּסְפָּרִים הַמִּתְאִיָּמִים



או



שִׁימוּ בְּכָל מִסְגֵּרַת כְּדוּר אֶחָד מִכָּל תֵּבָה כַּךְ שֶׁתִּקְבַּל 14 בְּכָל מִסְגֵּרַת

1

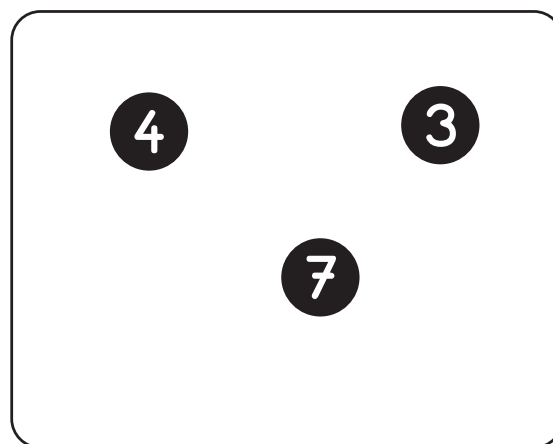
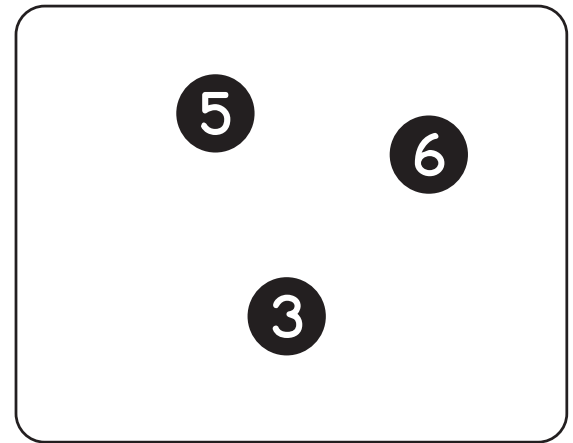
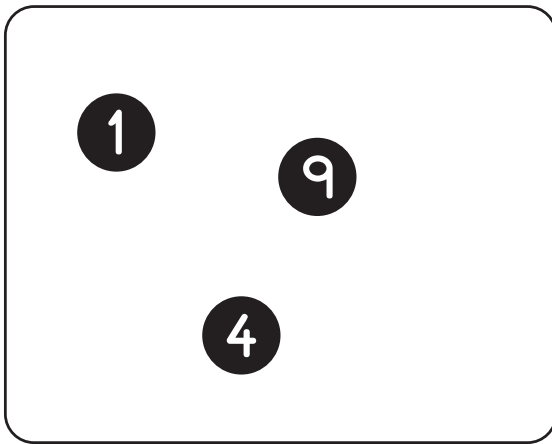
1 4 5 7

3 7 1 9

1 6 3 4

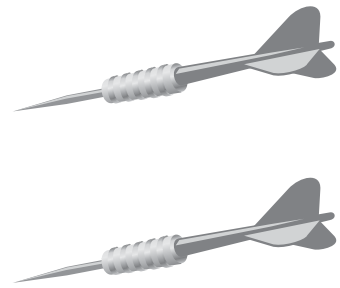
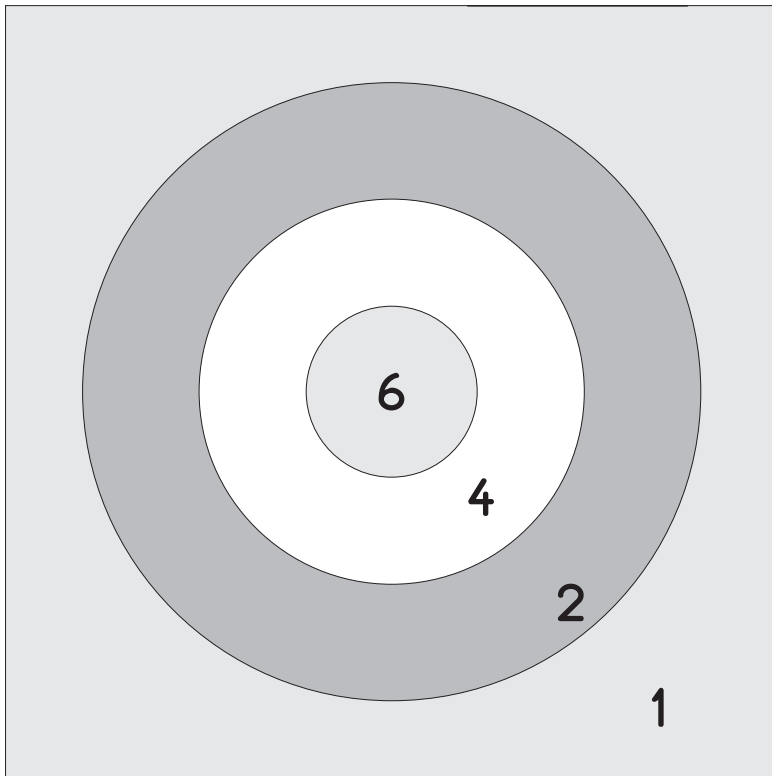
שִׁימוּ בְּכָל מִסְגֵּרַת כְּדוֹר אֶחָד מִכָּל תֵּיבָה כַּךְ שֶׁתִּקְבַּל 14 בְּכָל מִסְגֵּרַת

1



1

יש לכם 2 חצים



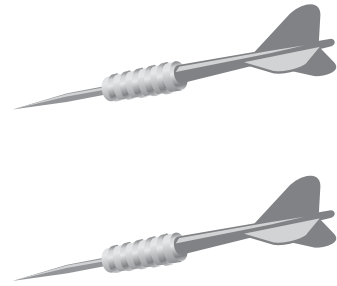
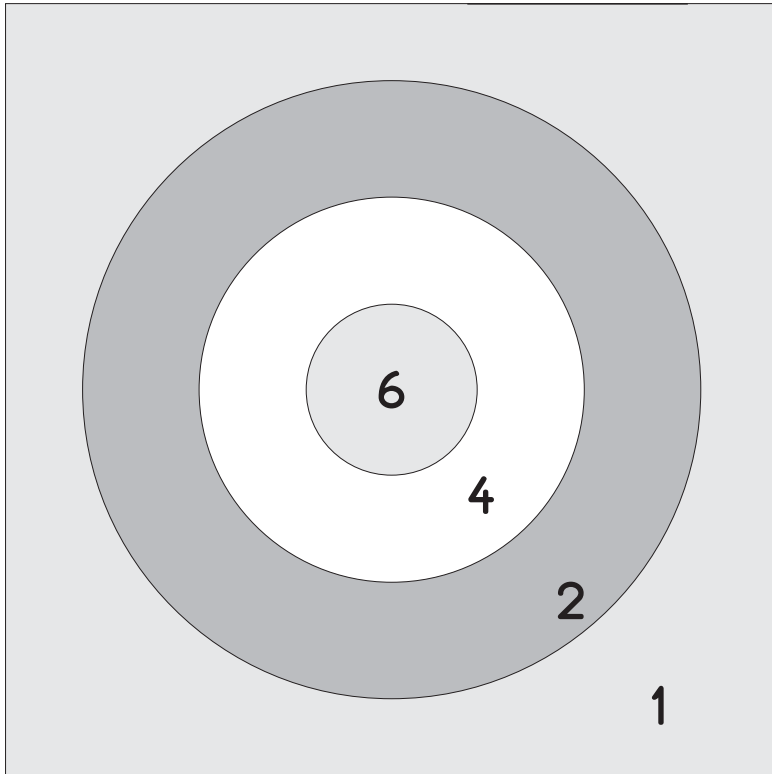
מה הנקוד הנמוך ביותר האפשרי? _____

מה הנקוד הגבוה ביותר האפשרי? _____

איזה נקוד אי אפשר להשיג בין הנקוד הגבוה ביותר לנמוך ביותר? _____

יש לך 2 חצים

1



מה הנקוד הנמוך ביותר האפשרי? _____ 2 _____


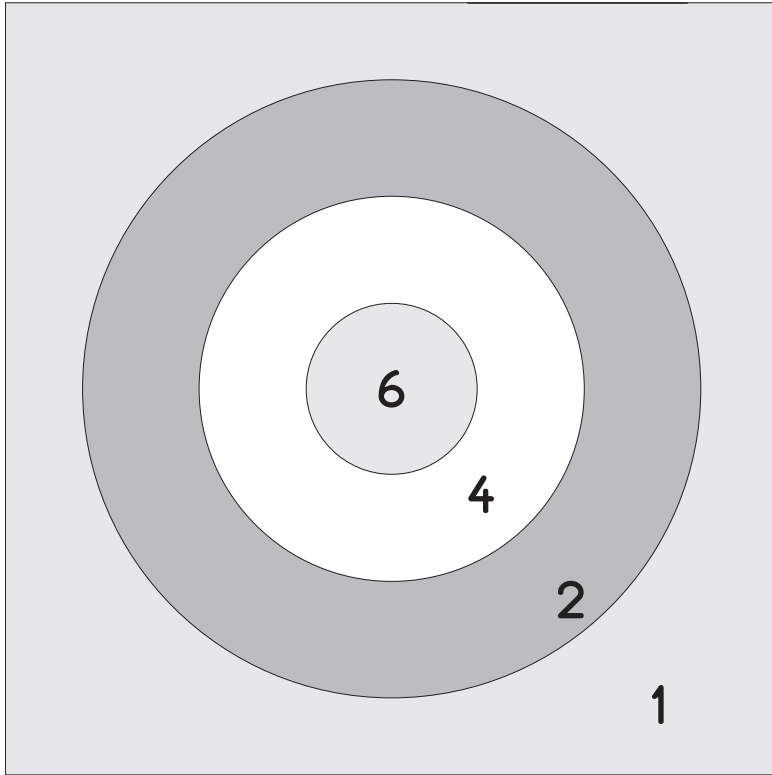
מה הנקוד הגבוה ביותר האפשרי? _____ 12 _____

איזה נקוד אי אפשר להשיג בין הנקוד הגבוה ביותר לנמוך ביותר?

_____ 11, 9, 7 _____

1

יש לכם 3 חצים




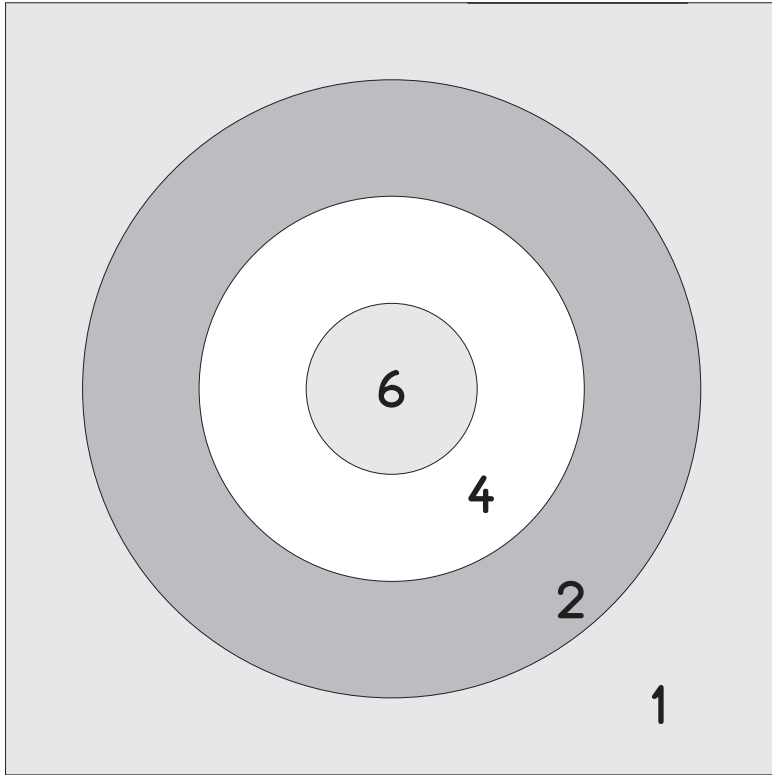
מה הנקוד הנמוך ביותר האפשרי? _____

מה הנקוד הגבוה ביותר האפשרי? _____

איזה נקוד אי אפשר להשיג בין הנקוד הגבוה ביותר לנמוך ביותר? _____

יש לכם 3 חצים

1



מה הנקוד הנמוך ביותר האפשרי? 3

מה הנקוד הגבוה ביותר האפשרי? 18

איזה נקוד אי אפשר להשיג בין הנקוד הגבוה ביותר לנמוך ביותר?

15, 17