
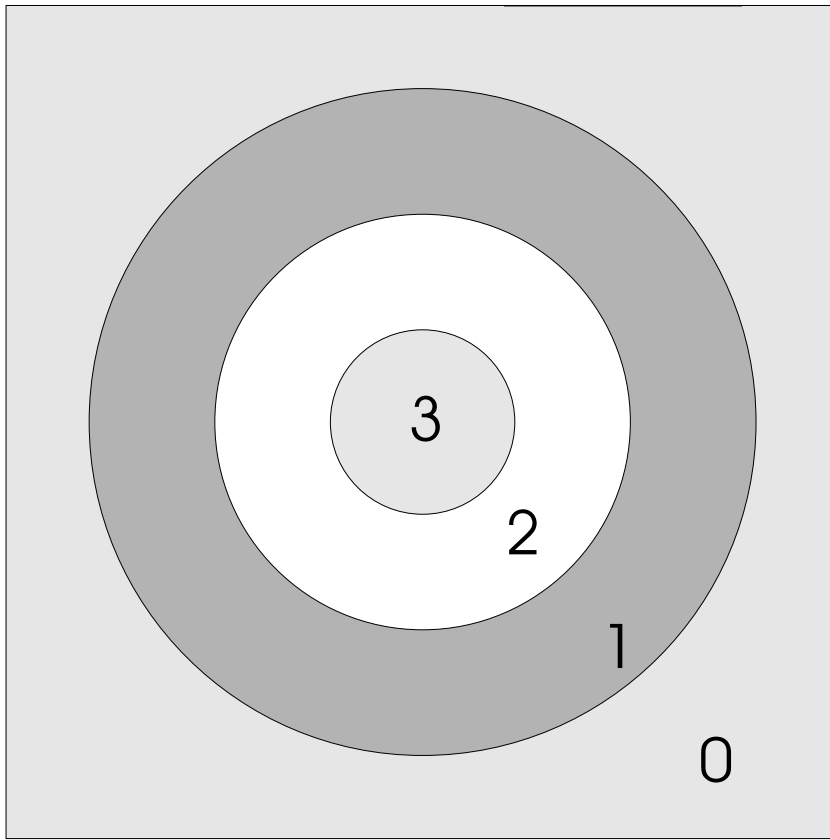


1

יש לכם 3 חצים,
כתבו את אפשרויות הנקוד השונות



$$\boxed{3} + \boxed{3} + \boxed{3} = \boxed{9}$$

$$\square + \square + \square = \square$$

$$\square + \square + \square = \square$$

$$\square + \square + \square = \square$$

$$\square + \square + \square = \square$$

$$\square + \square + \square = \square$$

$$\square + \square + \square = \square$$


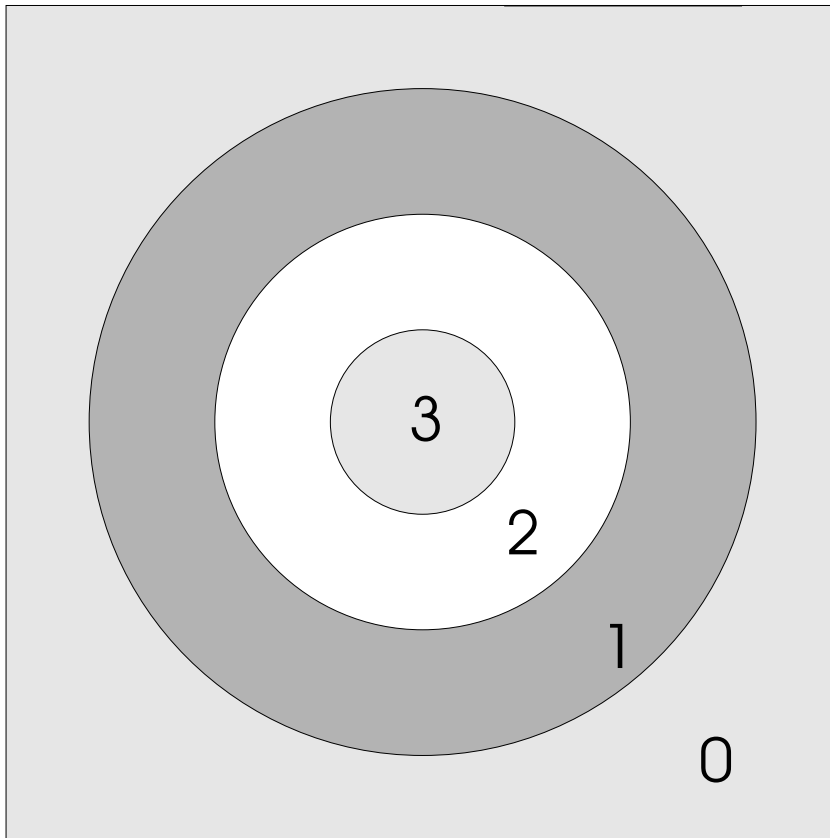
$$\square + \square + \square = \square$$

$$\square + \square + \square = \square$$

$$\square + \square + \square = \square$$

1

יש לכם 3 חצים,
כתבו את אפשרויות הנקוד השונות



$$\boxed{3} + \boxed{3} + \boxed{3} = \boxed{9}$$

$$\boxed{3} + \boxed{1} + \boxed{1} = \boxed{5}$$

$$\boxed{3} + \boxed{3} + \boxed{2} = \boxed{8}$$

$$\boxed{2} + \boxed{2} + \boxed{2} = \boxed{6}$$

$$\boxed{3} + \boxed{3} + \boxed{1} = \boxed{7}$$

$$\boxed{2} + \boxed{2} + \boxed{1} = \boxed{5}$$

$$\boxed{3} + \boxed{2} + \boxed{2} = \boxed{7}$$

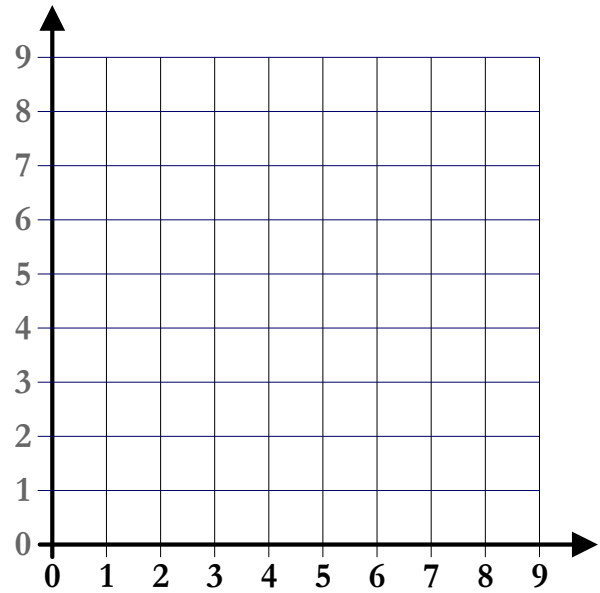
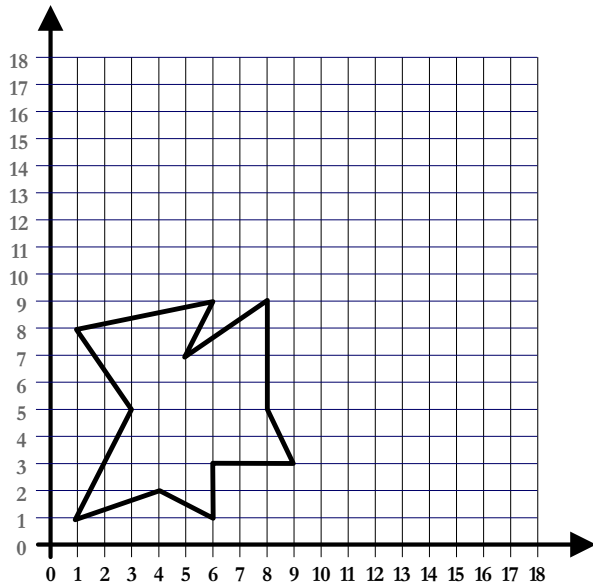
$$\boxed{2} + \boxed{1} + \boxed{1} = \boxed{4}$$

$$\boxed{3} + \boxed{2} + \boxed{1} = \boxed{6}$$

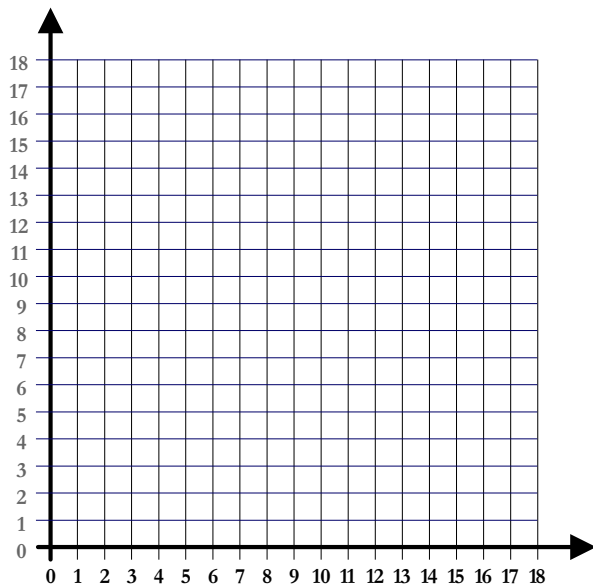
$$\boxed{2} + \boxed{1} + \boxed{0} = \boxed{3}$$

1

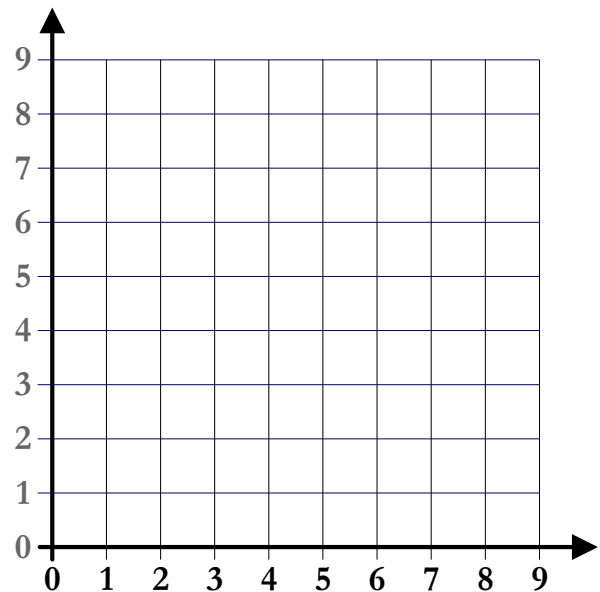
הַעֲתִיקוּ אֶת הַצִּיּוֹר לְפִי הַמְּקוֹם שְׁלוֹ בְּרֶשֶׁת



צִיְרוּ צִיּוֹר וְהַעֲתִיקוּ אוֹתוֹ לְפִי הַמְּקוֹם שְׁלוֹ בְּרֶשֶׁת



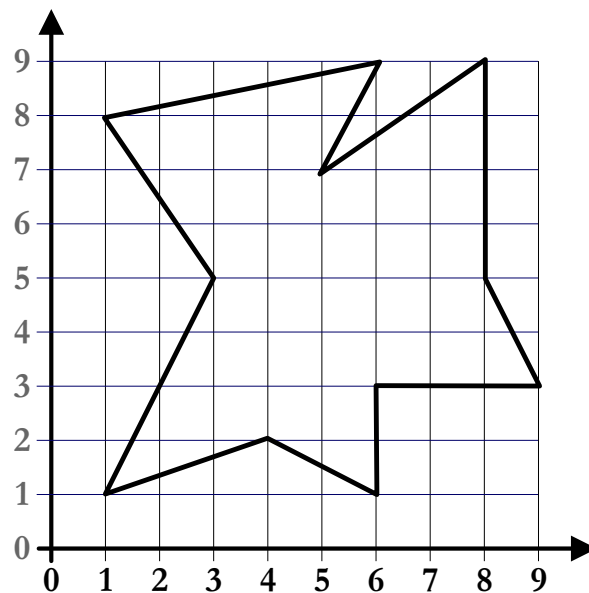
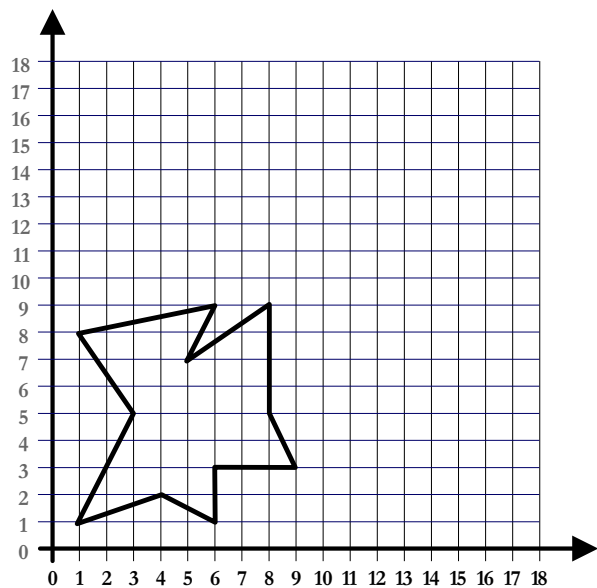
הַצִּיּוֹר שְׁלֶךְ



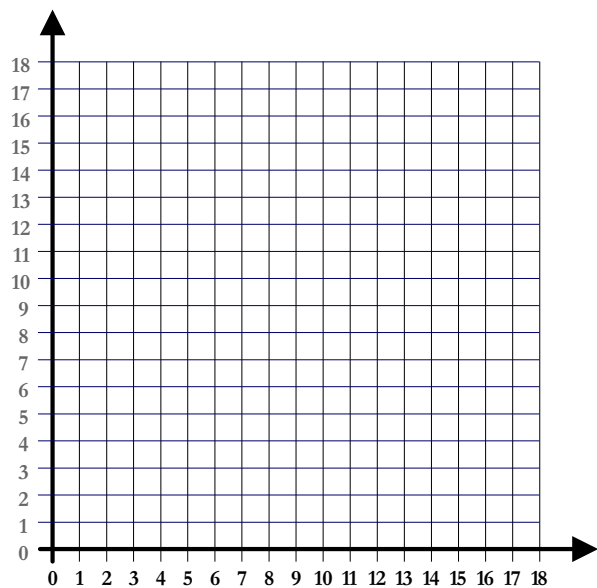
הַהַעֲתִיק

1

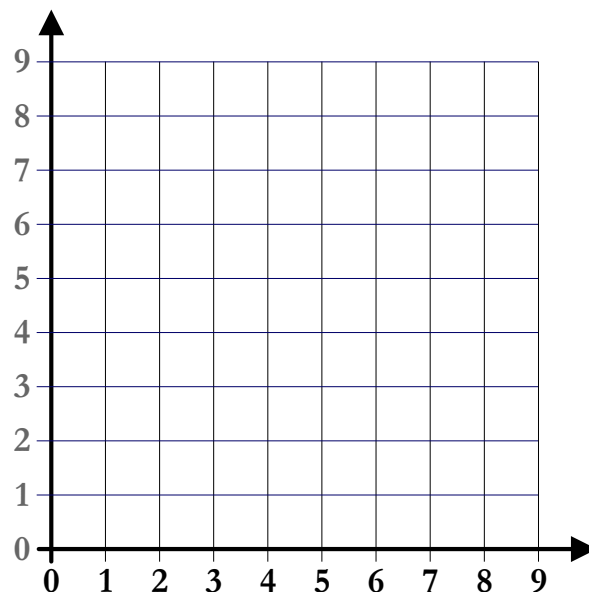
הַעֲתִיקוּ אֶת הַצִּיּוֹר לְפִי הַמְּקוֹם שְׁלוֹ בְּרֶשֶׁת



צִירוּ צִיּוֹר וְהַעֲתִיקוּ אוֹתוֹ לְפִי הַמְּקוֹם שְׁלוֹ בְּרֶשֶׁת



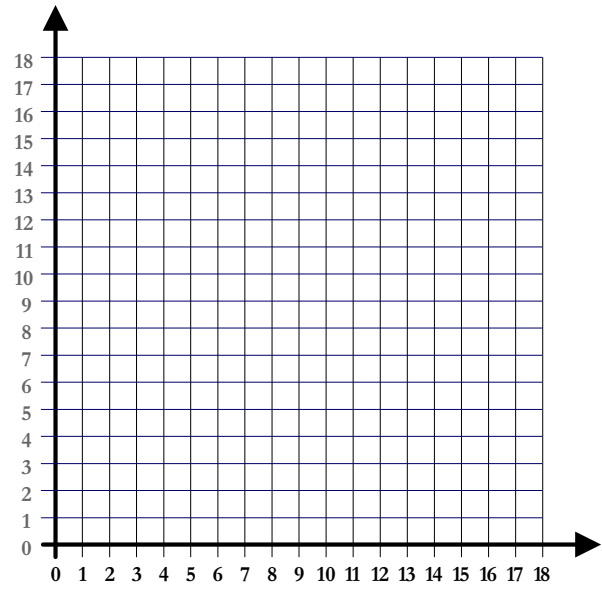
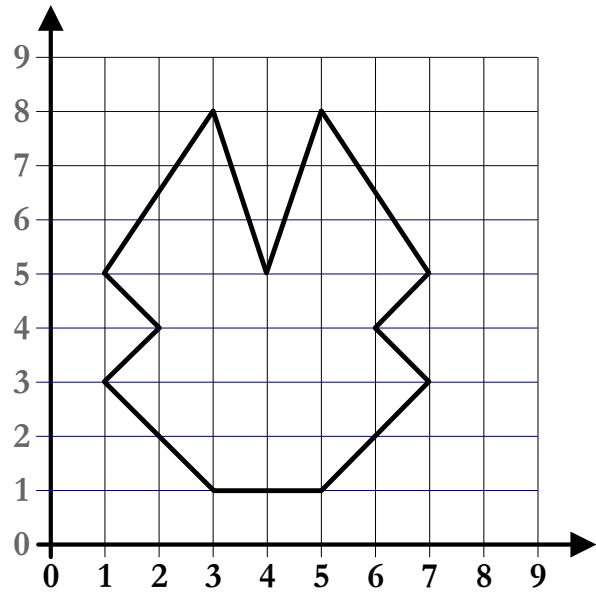
הַצִּיּוֹר שְׁלֶךְ



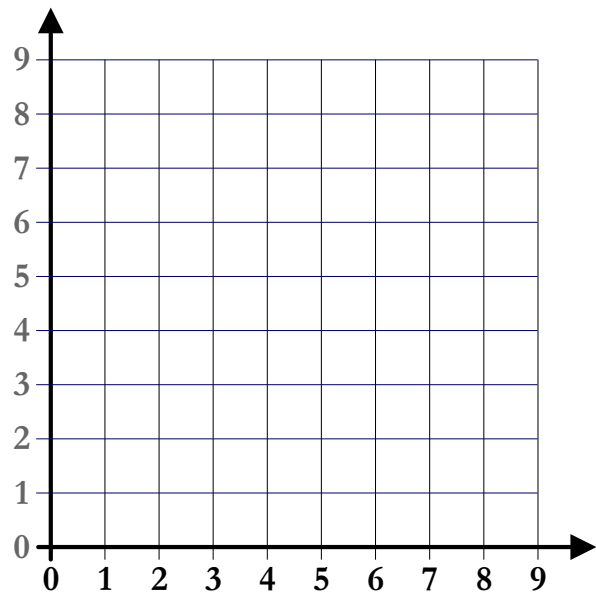
הַהַעֲתִיק

1

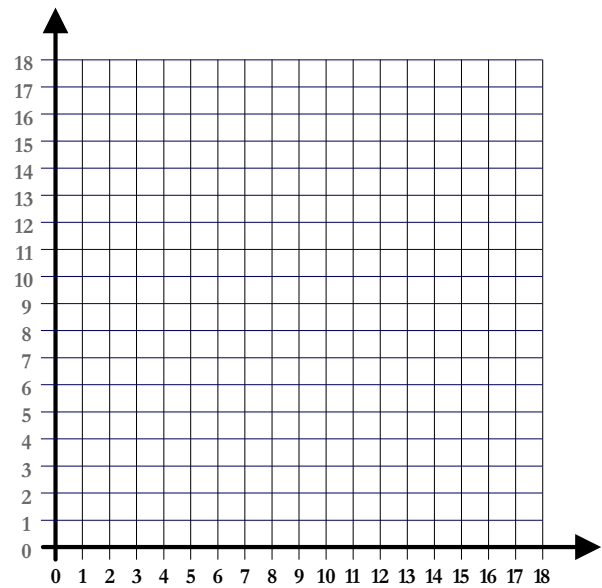
העתיקו את הציור לפי המקום שְׁלו בְּרֶשֶׁת



צִירוּ צִיור וְהַעֲתִיקוּ אוֹתוֹ לְפִי הַמְּקוֹם שְׁלו בְּרֶשֶׁת



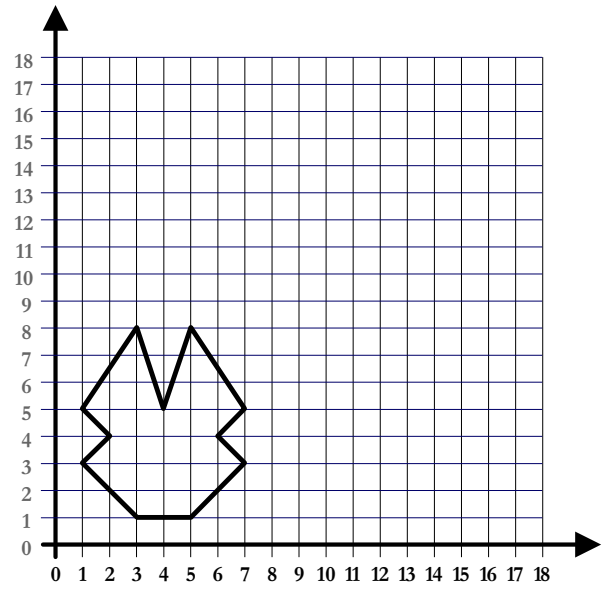
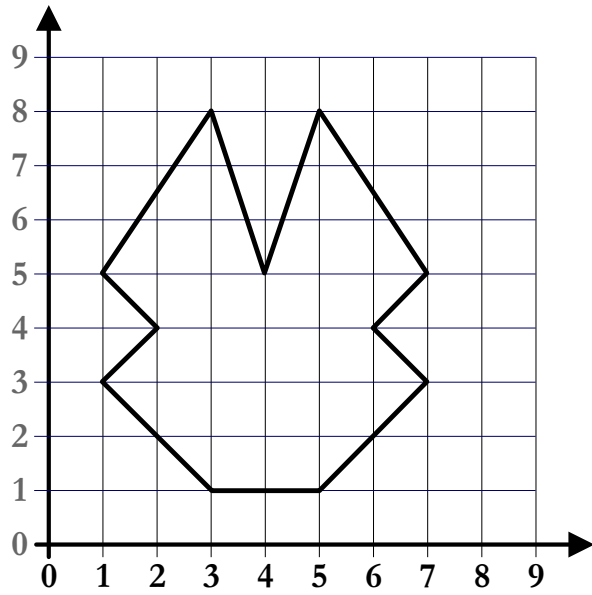
הציור שֶׁלְךָ



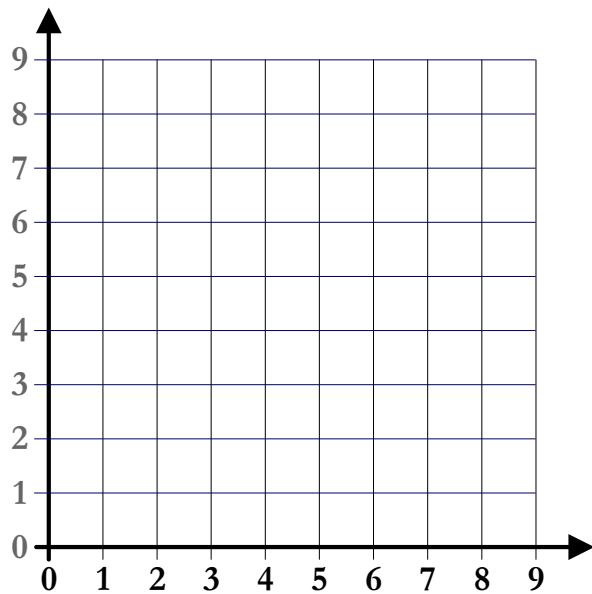
ההעתק

1

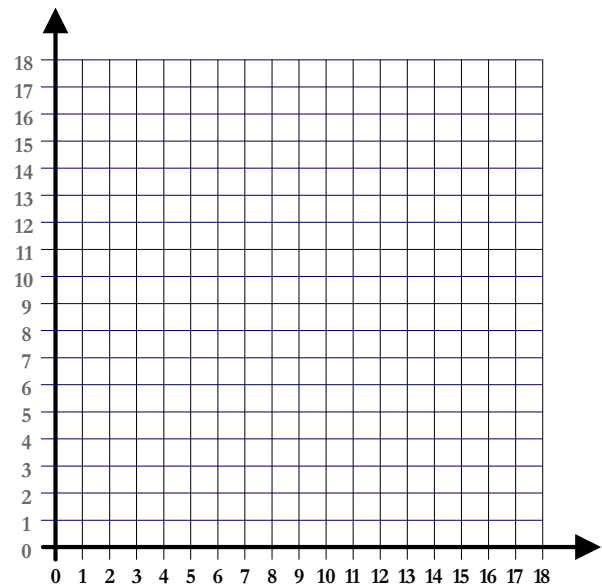
הַעֲתִיקוּ אֶת הַצִּיּוֹר לְפִי הַמְּקוֹם שְׁלוֹ בְּרֶשֶׁת



צִיְרוּ צִיּוֹר וְהַעֲתִיקוּ אוֹתוֹ לְפִי הַמְּקוֹם שְׁלוֹ בְּרֶשֶׁת



הַצִּיּוֹר שְׁלָךְ




הַהַעֲתִיק

1

יש לי 3 מטבעות של 10 שקלים,
7 מטבעות של 5 שקלים,
6 מטבעות של שקל אחד.

אני רוצה לקנות צעצוע שעולה 29 שקלים.
אלו מטבעות אני צריך לתת כדי של א אקבל ע דף?
מצאו לפחות 3 פתרונות שונים
(בכל פתרון יהיה מספר שונה של מטבעות)

הקיפו כל פתרון בצבע שונה



1

יש לי 3 מטבעות של 10 שקלים,
7 מטבעות של 5 שקלים,
6 מטבעות של שקל אחד.

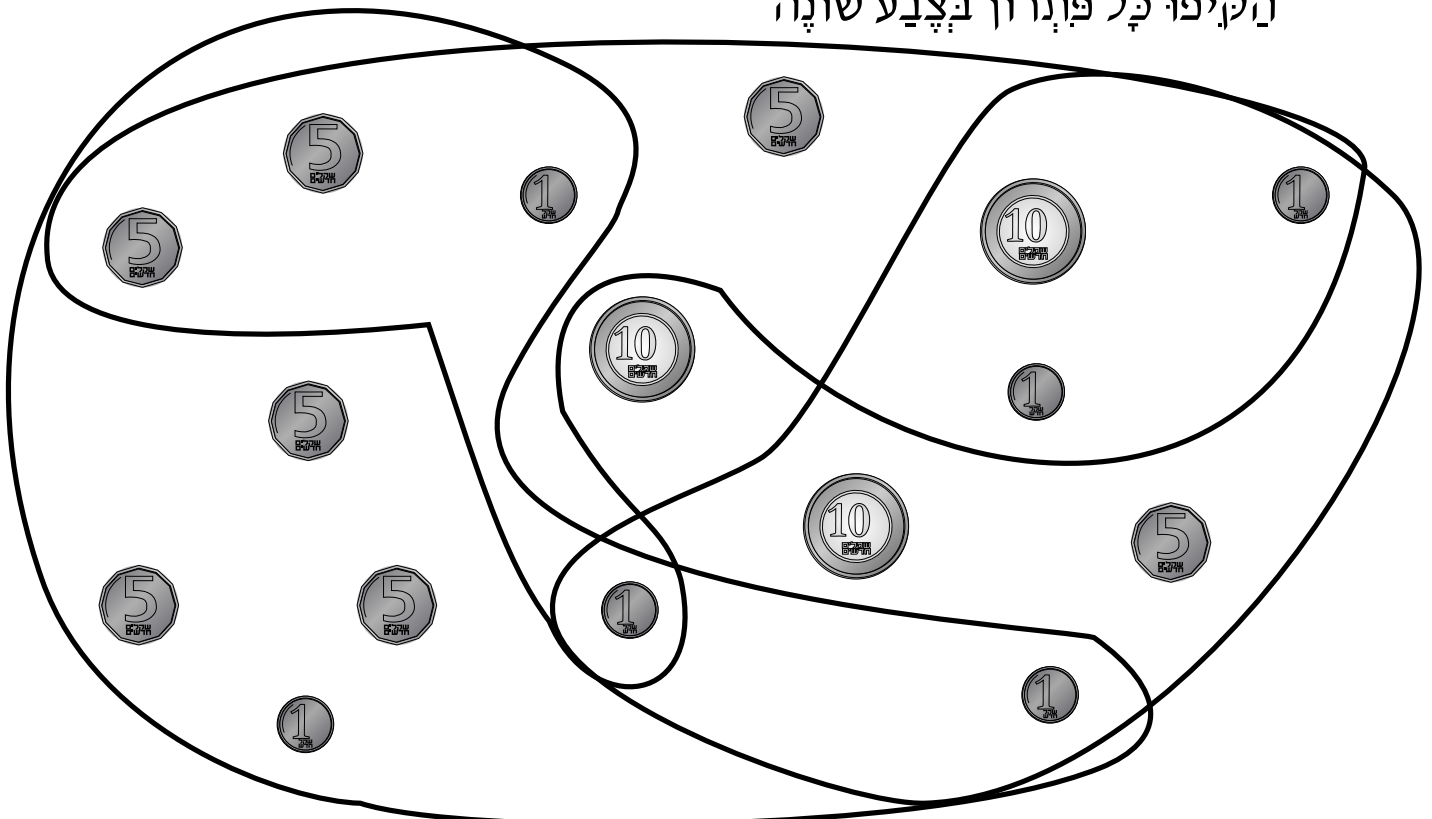
אני רוצה לקנות צעצוע שעולה 29 שקלים.
אלו מטבעות אני צריך לתת כדי של א אקבל ע דף?
מצאו לפחות 3 פתרונות שונים
(בכל פתרון יהיה מספר שונה של מטבעות)

$$10 + 10 + 5 + 1 + 1 + 1 + 1$$

$$5 + 5 + 5 + 5 + 5 + 1 + 1 + 1 + 1$$

$$10 + 5 + 5 + 5 + 1 + 1 + 1 + 1$$





הקיפו כל פתרון בצבע שונה



תנועה עם אלוצים

1

כדי להגיע לאוצר
הלכתי 3 צעדים שמ' אלה,
2 צעדים למעלה
וצעד אחד ימינה.
מאיפה יצאתי?

8								
7								
6								
5								
4								
3								
2								
1								
	1	2	3	4	5	6	7	8


2

מלאו בטבלה את תאור הדרך שבמשימה 1.
השלב הראשון כבר הכנס לטבלה.

שלב	מספר צעדים	למעלה	למטה	ימינה	שמ' אלה
א	3				✓
ב					
ג					

3

צירו את המסלול לפי הטבלה

8								
7								
6								
5								
4								
3								
2								
1								
	1	2	3	4	5	6	7	8





שלב	א	ב	ג
מספר צעדים	2	1	3
למעלה	✓		
למטה			✓
ימינה		✓	
שמ' אלה			

1

כדי להגיע לאוצר
הלכתי 3 צעדים שמ' אלה,
2 צעדים למעלה
וצעד אחד ימינה.

מאיפה יצאתי?

(6,2)

8								
7								
6								
5								
4								
3								
2								
1								
	1	2	3	4	5	6	7	8


2

מלאו בטבלה את תאור הדרך שבמשימה 1.
השלב הראשון כבר הכנס לטבלה.

שלב	מספר צעדים	למעלה	למטה	ימינה	שמ' אלה
א	3				✓
ב	2	✓			
ג	1			✓	

3

צירו את המסלול לפי הטבלה





8								
7								
6								
5								
4								
3								
2								
1								
	1	2	3	4	5	6	7	8

שלב	א	ב	ג
מספר צעדים	2	1	3
למעלה	✓		
למטה			✓
ימינה		✓	
שמ' אלה			

1

השלימו את הטבלה:

כתבו את שם החיה, את הסמל, ואת המספר הסדורי שלה




	שם	סמל
ראשון	קוף	△
שני		
שלישי		
	שקנאי	
חמישי		

1

השלימו את הטבלה:

כתבו את שם החיה, את הסמל, ואת המספר הסדורי שלה



	שם	סמל
ראשון	קוף	
שני	איל	
שלישי	זאב	
רביעי	שקנאי	
חמישי	אריה	

1

סמנו באדום מסלול העובר דרך כל המספרים הזוגיים. (בלי לחזור אחורה)
 סמנו בכחול מסלול העובר דרך כל המספרים האי-זוגיים.
 אתם יכ' וליים להתקדם למעלה, למטה, ימינה, שמאלה או באלכסון

2	16	4	12
1	0	18	11
13	9	17	5

2

סמנו באדום מסלול העובר דרך כל המספרים הזוגיים. (בלי לחזור אחורה)
 סמנו בכחול מסלול העובר דרך כל המספרים האי-זוגיים.
 אתם יכ' וליים להתקדם למעלה, למטה, ימינה, שמאלה או באלכסון

18	9	13	1
7	10	5	17
15	2	14	3
1	16	0	4

1

סמנו באדום מסלול העובר דרך כל המספרים הזוגיים. (בלי לחזור אחורה)
 סמנו בכחול מסלול העובר דרך כל המספרים האי-זוגיים.
 אתם יכ' ו'לים להתקדם למעלה, למטה, ימינה, שמ' אלה או באלכסון

2	6	4	12
1	8	18	11
13	9	17	5

2

סמנו באדום מסלול העובר דרך כל המספרים הזוגיים. (בלי לחזור אחורה)
 סמנו בכחול מסלול העובר דרך כל המספרים האי-זוגיים.
 אתם יכ' ו'לים להתקדם למעלה, למטה, ימינה, שמ' אלה או באלכסון

18	9	13	1
7	10	5	17
15	2	14	3
1	6	0	4