

1 תחמו את המספרים הבאים בין העשרות הקרובות.

$$\underline{\hspace{2cm}} < 39 < \underline{\hspace{2cm}}$$

$$\underline{\hspace{2cm}} < 632 < \underline{\hspace{2cm}}$$

$$\underline{\hspace{2cm}} < 6 < \underline{\hspace{2cm}}$$

$$\underline{\hspace{2cm}} < 127 < \underline{\hspace{2cm}}$$

$$\underline{\hspace{2cm}} < 58 < \underline{\hspace{2cm}}$$

$$\underline{\hspace{2cm}} < 5,432 < \underline{\hspace{2cm}}$$

$$\underline{\hspace{2cm}} < 12 < \underline{\hspace{2cm}}$$

$$\underline{\hspace{2cm}} < 6,482 < \underline{\hspace{2cm}}$$

$$\underline{\hspace{2cm}} < 99 < \underline{\hspace{2cm}}$$

$$\underline{\hspace{2cm}} < 16,430 < \underline{\hspace{2cm}}$$

$$\underline{\hspace{2cm}} < 45 < \underline{\hspace{2cm}}$$

$$\underline{\hspace{2cm}} < 13,248 < \underline{\hspace{2cm}}$$

2 תחמו את המספרים הבאים בין המאות הקרובות.

$$\underline{\hspace{2cm}} < 99 < \underline{\hspace{2cm}}$$

$$\underline{\hspace{2cm}} < 436 < \underline{\hspace{2cm}}$$

$$\underline{\hspace{2cm}} < 505 < \underline{\hspace{2cm}}$$

$$\underline{\hspace{2cm}} < 1,245 < \underline{\hspace{2cm}}$$

$$\underline{\hspace{2cm}} < 165 < \underline{\hspace{2cm}}$$

$$\underline{\hspace{2cm}} < 5,432 < \underline{\hspace{2cm}}$$

$$\underline{\hspace{2cm}} < 989 < \underline{\hspace{2cm}}$$

$$\underline{\hspace{2cm}} < 6,482 < \underline{\hspace{2cm}}$$

$$\underline{\hspace{2cm}} < 202 < \underline{\hspace{2cm}}$$

$$\underline{\hspace{2cm}} < 13,248 < \underline{\hspace{2cm}}$$

$$\underline{\hspace{2cm}} < 320 < \underline{\hspace{2cm}}$$

$$\underline{\hspace{2cm}} < 16,430 < \underline{\hspace{2cm}}$$

3 תחמו את המספרים הבאים בין האלפים הקרובים.

$$\underline{\hspace{2cm}} < 2,500 < \underline{\hspace{2cm}}$$

$$\underline{\hspace{2cm}} < 18,432 < \underline{\hspace{2cm}}$$

$$\underline{\hspace{2cm}} < 6,170 < \underline{\hspace{2cm}}$$

$$\underline{\hspace{2cm}} < 1,298 < \underline{\hspace{2cm}}$$

$$\underline{\hspace{2cm}} < 431,000 < \underline{\hspace{2cm}}$$

$$\underline{\hspace{2cm}} < 5,432 < \underline{\hspace{2cm}}$$

$$\underline{\hspace{2cm}} < 53,218 < \underline{\hspace{2cm}}$$

$$\underline{\hspace{2cm}} < 6,482 < \underline{\hspace{2cm}}$$

$$\underline{\hspace{2cm}} < 450,000 < \underline{\hspace{2cm}}$$

$$\underline{\hspace{2cm}} < 16,430 < \underline{\hspace{2cm}}$$

$$\underline{\hspace{2cm}} < 606 < \underline{\hspace{2cm}}$$

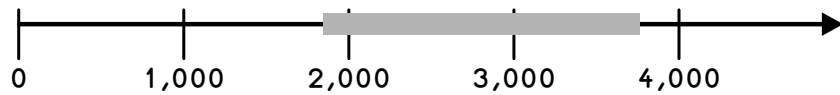
$$\underline{\hspace{2cm}} < 13,248 < \underline{\hspace{2cm}}$$

# ג. תיחום ועיגול

4 תחמו את המספרים הבאים בין עשרות האלפים הקרובים.

_____ < 68,020 < _____	_____ < 199,700 < _____
_____ < 10,005 < _____	_____ < 100,025 < _____
_____ < 762,300 < _____	_____ < 16,200 < _____
_____ < 420,100 < _____	_____ < 1,200 < _____
_____ < 600,000 < _____	_____ < 14,000 < _____

5 כתבו עשרה מספרים השייכים לקטע המודגש.



\_\_\_\_\_, \_\_\_\_\_, \_\_\_\_\_, \_\_\_\_\_, \_\_\_\_\_,  
 \_\_\_\_\_, \_\_\_\_\_, \_\_\_\_\_, \_\_\_\_\_, \_\_\_\_\_

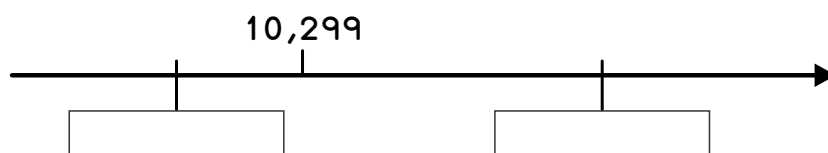
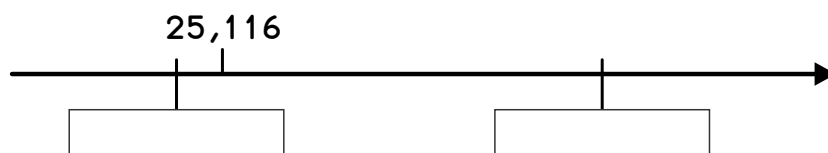
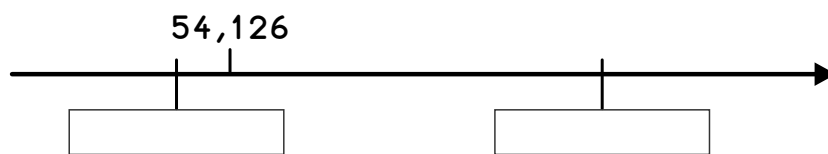
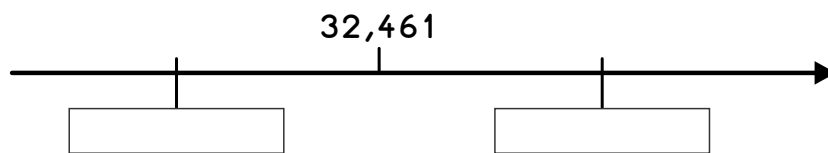
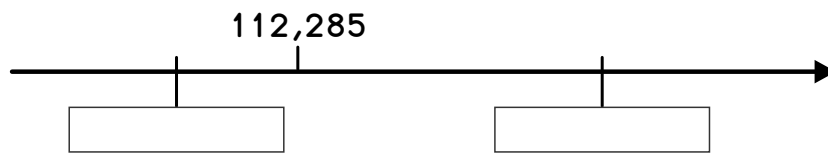
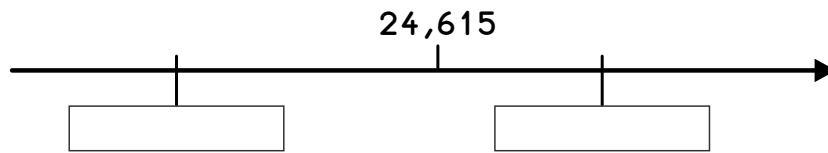

6 כתבו מספרים מתאימים.

7,320 < _____ < 7,620	6,030 < _____ < _____
18,250 < _____ < 18,350	17,532 > _____
_____ < 12,324 < _____	_____ > 6,345
_____ < 426,326 < _____	

7 צבעו את המספרים הנמצאים בתחום שבין 98,000 ל-120,000.

121,345	110,000	97,000	140,000
100,042	102,000	95,441	99,016

8 תחמו את המספרים בין האלפים הקרובים על ציר המספרים.



# ג. תיחום ועיגול

9 עגלו את המספרים הבאים לעשרת הקרובה. (היעזרו בציר המספרים).



$32 \approx$ _____	$47 \approx$ _____	$79 \approx$ _____
$65 \approx$ _____	$53 \approx$ _____	$64 \approx$ _____
$58 \approx$ _____	$6 \approx$ _____	$60 \approx$ _____
$81 \approx$ _____	$29 \approx$ _____	$15 \approx$ _____

10 ההפרש בין מספר מסויים ל-382 שווה לסכום המספרים 360 ו-140.

מצאו את המספר. \_\_\_\_\_  
 \_\_\_\_\_

עגלו את המספר לעשרת הקרובה. \_\_\_\_\_

אם מפחיתים מספר מ-4430 מתקבלת התוצאה 215.

מהו המספר? \_\_\_\_\_  
 \_\_\_\_\_

עגלו את המספר לעשרת הקרובה. \_\_\_\_\_

11 עגלו את המספרים הבאים למאה הקרובה. (היעזרו בציר המספרים).



$120 \approx$ _____	$608 \approx$ _____	$215 \approx$ _____
$243 \approx$ _____	$120 \approx$ _____	$132 \approx$ _____
$420 \approx$ _____	$385 \approx$ _____	$644 \approx$ _____
$526 \approx$ _____	$564 \approx$ _____	$126 \approx$ _____

# ג. תיחום ועיגול

12 בלילה חשוך ספרו שני אסטרונוטים את הכוכבים בשמיים. האסטרונוט הראשון ספר 407 כוכבים, האסטרונוט השני ספר 117 כוכבים יותר מהראשון. כמה כוכבים ספרו שני האסטרונוטים בסך הכול? עגלו כל מספר למאות וחשבו.

\_\_\_\_\_

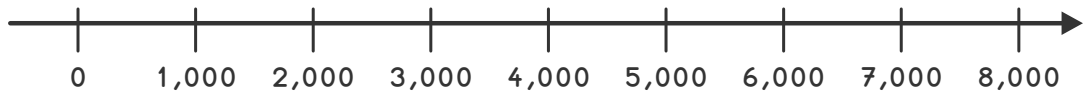
בצעו חישוב מדויק (ללא עיגול).

\_\_\_\_\_

מה ההבדל בין חישוב מדויק לחישוב מעוגל?

\_\_\_\_\_

13 עגלו את המספרים הבאים לאלף הקרוב. (היעזרו בציר המספרים).



3,099 ≈ \_\_\_\_\_      8,321 ≈ \_\_\_\_\_      1,295 ≈ \_\_\_\_\_

6,039 ≈ \_\_\_\_\_      4,628 ≈ \_\_\_\_\_      2,673 ≈ \_\_\_\_\_

324 ≈ \_\_\_\_\_      9,320 ≈ \_\_\_\_\_      7,164 ≈ \_\_\_\_\_

14 בטבלה שלפניכם מוצגים מספרי המכוניות שיובאו לישראל בשנים האחרונות. השלימו את הטבלה.

השנה	מספר המכוניות שיובאו	עֵיאוֹל לֵאלֵפִים	עֵיאוֹל לְרֵבבוֹת
1994	215,618		
1996	238,200		
1998	129,631		
2000	321,986		
2002	267,657		
2004	412,810		



# בדקו את עצמכם

1 השלימו.

בחרו מספר שיש בו 7 ספרות שונות.

בחרו מספר שיש בו 5 ספרות שונות.

עגלו אותו לאלפים. \_\_\_\_\_

עגלו אותו לאלפים. \_\_\_\_\_

עגלו אותו לרבבות. \_\_\_\_\_

עגלו אותו למאות. \_\_\_\_\_

עגלו אותו למאות. \_\_\_\_\_

עגלו אותו לעשרות. \_\_\_\_\_

3 יש לי 2,654 ₪.

מה מספר העשרות שיש לי? \_\_\_\_\_

מה מספר המאות שיש לי? \_\_\_\_\_

2 כתבו מספר שספרת מאות-האלפים שלו היא 9, מספר האלפים שלו גדול מ960, וספרת העשרות שלו היא אי-זוגית.

\_\_\_\_\_

4 פרקו לאלפים וליחידות לפי הדוגמה:

ספר	עֵיאוֹ לְעֶשְׂרוֹת	עֵיאוֹ לְמֵאוֹת	עֵיאוֹ לְאֲלָפִים	עֵיאוֹ לְרֵבָבוֹת
5,258	4,260	4,300	4,000	0
6,324				
25,640				
326,281				
158,351				
231,892				