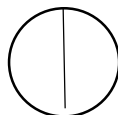
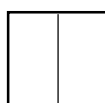


שברים פשוטים:

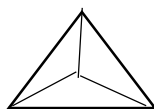
א. צבעו את החלקים בצורות הבאות לפי ההוראות:



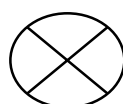
1. צבעו $\frac{1}{2}$ מהעיגול



2. צבעו $\frac{1}{2}$ מהריבוע



3. צבעו $\frac{1}{3}$ מהמשולש

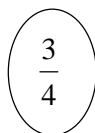


4. צבעו $\frac{1}{4}$ מהעיגול

ב. איזה חלק של המלבן צבוע? (הקף את התשובה הנכונה, הראשון דוגמא.)



$\frac{3}{3}$



$\frac{2}{3}$

$\frac{1}{4}$



$\frac{1}{3}$

$\frac{3}{4}$

$\frac{2}{3}$

$\frac{1}{4}$

לוחדים ומתקדחים בעמותת נגבה



$$\frac{1}{3}$$

$$\frac{3}{4}$$

$$\frac{2}{3}$$

$$\frac{1}{4}$$



$$\frac{3}{3}$$

$$\frac{3}{4}$$

$$\frac{2}{3}$$

$$\frac{1}{4}$$



$$\frac{1}{3}$$

$$\frac{3}{6}$$

$$\frac{2}{3}$$

$$\frac{1}{6}$$



$$\frac{1}{3}$$

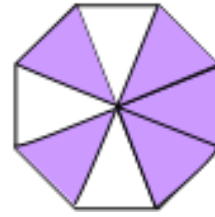
$$\frac{3}{6}$$

$$\frac{2}{3}$$

$$\frac{1}{6}$$

לוחדים ומתקדחים בעמותת נגבה

ג. איזה חלק של המתומן צבוע:



$$\frac{1}{2}$$

$$\frac{3}{8}$$

$$\frac{5}{8}$$

$$\frac{2}{8}$$



ד. צבעו $\frac{2}{6}$ מהלבבות



צבעו $\frac{2}{3}$ מהכוכבים



צבעו $\frac{1}{2}$ מהעננים



צבעו $\frac{1}{4}$ מהמשולשים

