

פעולות עם 10 ו-100

1. השלם את המספרים בתרגילים שלפניך ממחסן המספרים למטה כך שהתשובה תצא נכונה: (הראשון הוא דוגמא)

$$\boxed{} - 10 = 554$$

$$\boxed{454} + 100 = 554$$

$$\boxed{} - 100 = 554$$

$$\boxed{} + 10 = 554$$











$$\boxed{} - 10 = 367$$

$$\boxed{} - \boxed{} = 100$$

$$\boxed{} + 100 = 367$$

$$\boxed{} + 10 = 367$$

$$\boxed{} - 100 = 367$$

לומדים ומתקדמים בעמותת נגבה



2. לפניך תרגילים ותשובות מפוזרים מצא לכול תרגיל את התשובה המתאימה לו וכתוב את התרגיל המלא ותשובתו למטה:

788	110	$562-10$	442	$741-10$
$432+10$	133	$777-100$	$123+10$	810
731	377	$100+10$	593	$367+10$
677	511	$820-10$	$842-100$	552
$508+10$	742	$411+100$	518	$678+100$
				$693-100$

- _____ .8
- _____ .9
- _____ .10
- _____ .11
- _____ .12
- _____ .13

- _____ .1
- _____ .2
- _____ .3
- _____ .4
- _____ .5
- _____ .6
- _____ .7