






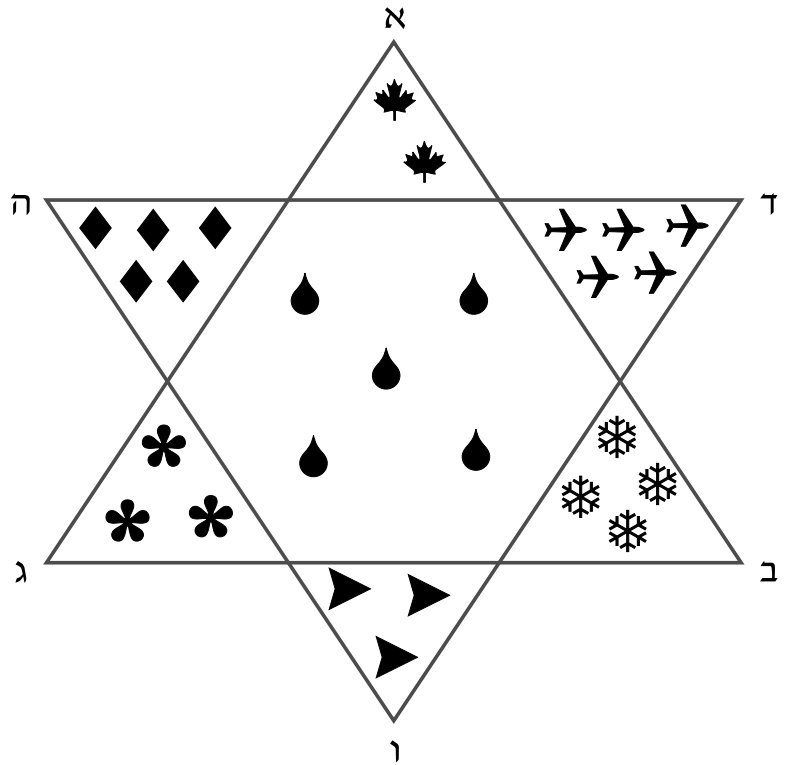


1

השלימו את הטבלה לפי הציור

הציורה	הכמות	הערך
		128
		50
		25
		75
		13
		16
		8



חשבו ללא מחשבון את ערך המשלש א-ב-ג, וכתבו את החשובים








אם חשבתם נכון, ספרת המאות שנה לספרת היחידות.

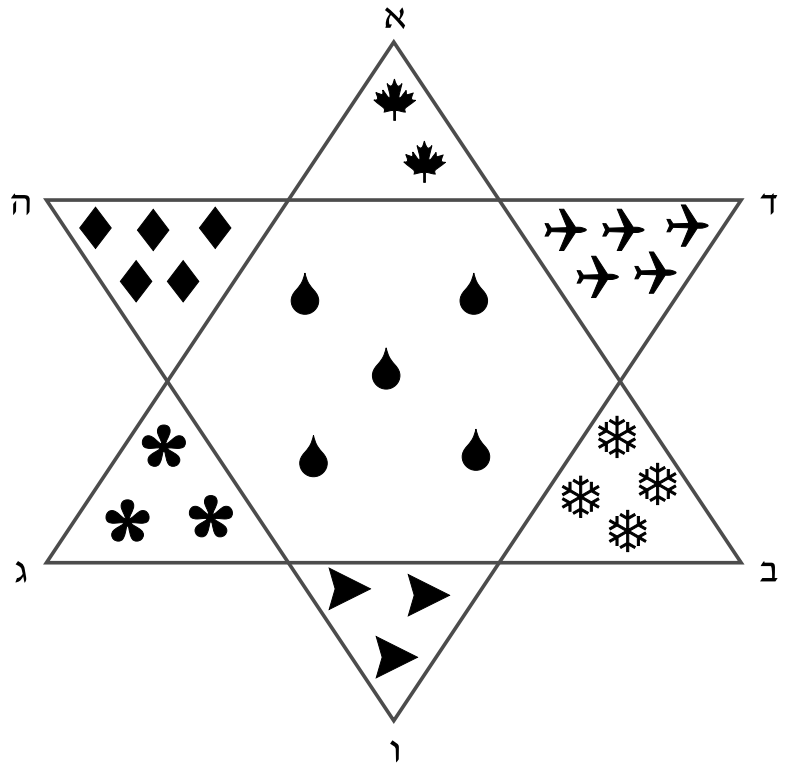
מה ערך המגו דוד פלו?

אם חשבתם נכון, כל הספרות שוות.

1

השלימו את הטבלה לפי הציור

	הערך	הכמות	הצורה
256	128	2	
250	50	5	
125	25	5	
225	75	3	
39	13	3	
64	16	4	
40	8	5	



חשבו ללא מחשבון את ערך המשולש א-ב-ג, וכתבו את החשובים

$$\underline{128 \times 2 = 256} \qquad \underline{8 \times 5 = 40} \qquad \underline{16 \times 4 = 64}$$

$$\underline{75 \times 3 = 225} \qquad \underline{256 + 40 + 64 + 225 = 585}$$

ערך המשולש א-ב-ג הוא 585.

אם חשבתם נכון, ספרת המאות שנה לספרת היחידות.

מה ערך המגו דוד פלו?

$$\underline{13 \times 3 = 39} \qquad \underline{50 \times 5 = 250} \qquad \underline{25 \times 5 = 125}$$

$$\underline{39 + 250 + 125 + 585 = 999}$$

ערך המגו דוד הוא 999.

אם חשבתם נכון, כל הספרות שוות.

①

למוכרת הפרחים יש 48 ורדים.
היא רוצה ליצור זרים, כשבכל זר כמות שווה של ורדים.
הציעו שלש אפשרויות שונות לסדור הזרים

①

למוכרת הפרחים יש 48 ורדים.
 היא רוצה ליצור זרים, כשבכל זר כמות שווה של ורדים.
 הציעו שלוש אפשרויות שונות לסדור הזרים


12 זרים של ארבעה ורדים כל אחד. 12×4

6 זרים של 8 ורדים כל אחד. 6×8

3 זרים של 16 ורדים כל אחד. 3×16

יש יותר מתשובה אחת נכונה


1



כָּל כּוֹכַב שׁוֹה 3 נְקֻדּוֹת.
 כָּל מַסְכָּה שׁוֹה 5 נְקֻדּוֹת.
 כָּל אוֹפֵנִים שׁוֹיִם 10 נְקֻדּוֹת.
 כָּל מַשְׁקָפִים שׁוֹיִם 2 נְקֻדּוֹת.
 כַּמָּה נְקֻדּוֹת יֵשׁ בְּסֵךְ הַכּ לִי?

אילו ציורים דגה צריכה להוסיף או להסיר כדי שיהיו לה 95 נקודות? תנו 3 אפשרויות

1



- כל כּוּכב שׁוּה 3 נְקֻדּוֹת.
- כל מִסְכָּה שׁוּה 5 נְקֻדּוֹת.
- כל אוֹפְנִים שׁוּים 10 נְקֻדּוֹת.
- כל מִשְׁקָפִים שׁוּים 2 נְקֻדּוֹת.
- כּמָה נְקֻדּוֹת יֵשׁ בְּסֵךְ הַכּ לִ?

4 × 3 + 5 × 5 + 3 × 10 + 6 × 2 = 79

בסך הכל יש 79 נקודות.

אילו ציורים דגה צריכה להוסיף או להסיר כדי שיהיו לה 95 נקודות? תנו 3 אפשרויות

א. אופניים ושני כוכבים.

ב. שתי מסכות ושלוש משקפיים.

ג. מסכה שני כוכבים ושני משקפיים

יש יותר מתשובה אחת נכונה

1

החלזונות נעים במסלול עגל שֶהֵקֵפוּ 4 מְטָרִים.

הם מחליטים ללכת 44 מְטָר.

החלזון הָרָק הֵקִיף אֶת הַמְסָלוֹל 6 פְּעָמִים.

כמה הקפות נותרו לו?

החלזונות נעים במסלול עגל שֶהֵקֵפוּ 4 מְטָרִים.

הם מחליטים ללכת 50 מְטָר.

החלזון הָאָדָם הֵקִיף אֶת הַמְסָלוֹל 7 פְּעָמִים.

איזה מרחק נותר לו ללכת?

①

החלזונות נעים במסלול עגל שהקפו 4 מטרים.

הם מחליטים ללכת 44 מטר.

החלזון הגר ק הקיף את המסלול 6 פעמים.

כמה הקפות נותרו לו?

$$44 : 4 = 11$$

$$11 - 6 = 5$$

לחילזון הירוק נותרו עוד 5 הקפות.

החלזונות נעים במסלול עגל שהקפו 4 מטרים.

הם מחליטים ללכת 50 מטר.

החלזון האדום הקיף את המסלול 7 פעמים.

איזה מרחק נותר לו לעב ר?

$$7 \times 4 = 28$$

$$50 - 28 = 22$$

לחילזון האדום נותרו עוד 22 מטרים.

1

×	0	1	2	3	4	5	6	7	8	9	10
0	0										
1											
2											
3											
4											
5											
6											
7											
8											
9											
10											

צבעו בלוח הכפול את המקומים שכל חלק

אד'ם :

2	4	6	8
	6	9	

ק'ר :

		16
10	15	20
	18	

ב'ה :

5	
6	12
7	

מלאו את המשבצות לפי לוח הכפול

	8	
	10	
	12	

9	12	15

1

×	0	1	2	3	4	5	6	7	8	9	10
0	0										
1											
2		2	4	6	8						
3			6	9							
4					16						
5		5	10	15	20						
6		6	12	18							
7		7									
8											
9											
10											

צבעו בלוח הכפול את המקומים שכל כול חלק

אד ם:

2	4	6	8
	6	9	

ק ף:

		16
10	15	20
	18	

ב ץ:

5	
6	12
7	

מלאו את המשבצות לפי לוח הכפול

	8	
5	10	15
	12	

9	12	15
	16	
	20	

1

×	0	1	2	3	4	5	6	7	8	9	10
0	0										
1											
2											
3											
4											
5											
6											
7											
8											
9											
10											

צבעו בלוח הכפול את המקומים שכל חלק

30	35	40	45	אד"ס:
	42	48		

			49	קר"ק:
40	48	56		
	54			

32		צה"ב:
36	45	
40		

מלאו את המשבצות לפי לוח הכפול

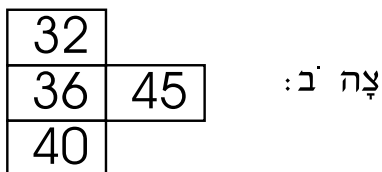
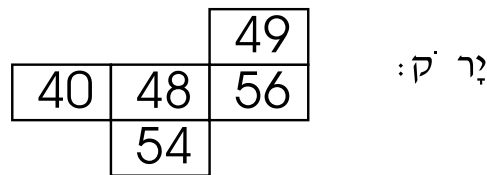
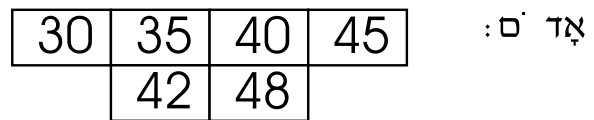
	24	
	32	
	40	

48	54	60

1

×	0	1	2	3	4	5	6	7	8	9	10
0	0										
1											
2											
3											
4											
5							30	35	40	45	
6								42	48		
7								49			
8					32	40	48	56			
9					36	45	54				
10					40						

צבעו בלוח הכפול את המקומים שכל חלק



מלאו את המשבצות לפי לוח הכפול

