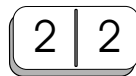
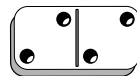
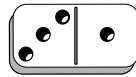
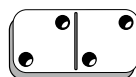
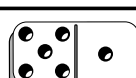


1





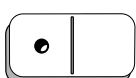
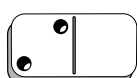
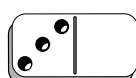
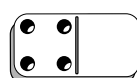
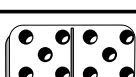
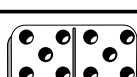
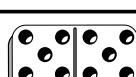
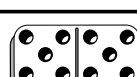
אפשר לקר 'א' את לוחית הדומינו כן  כן 


ואת לוחית הדומינו  כן 





אם מניחים את לוחיות הדומינו זו מעל זו מקבלים תרגיל חבור.

$$\begin{array}{r}
 31 \\
 + 22 \\
 \hline
 53
 \end{array}$$




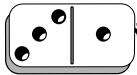
צרו תרגילי חבור בעזרת לוחיות הדומינו

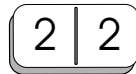
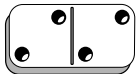
			
			
<hr/>	<hr/>	<hr/>	<hr/>
			

צרו כמה שיותר תרגילי חבור שונים, שהתוצאה שלהם היא  66 (יש יותר מ-20)

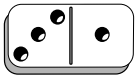
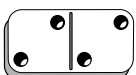
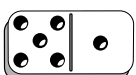
התרגיל  הוא כמו התרגיל 
 

1

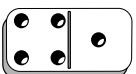
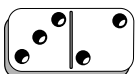
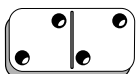
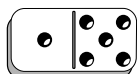
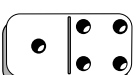
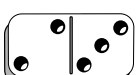
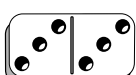
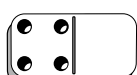
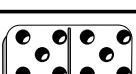
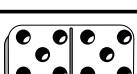
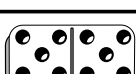
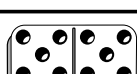
אפשר לקר 'א את לוחית הדומינו  כן 


ואת לוחית הדומינו  כן 





אם מניחים את לוחיות הדומינו זו מעל זו מקבלים תרגיל חבור.

$$\begin{array}{r}
 31 \\
 + 22 \\
 \hline
 53
 \end{array}$$




צרו תרגילי חבור בעזרת לוחיות הדומינו

צרו כמה שיותר תרגילי חבור שונים, שהתוצאה שלהם היא  66 (יש יותר מ- 20)

התרגיל  הוא כמו התרגיל 
 

יש יותר מתשובה אחת נכונה

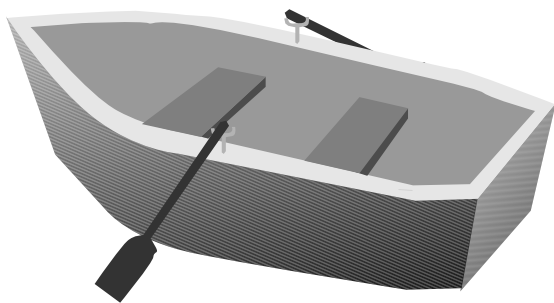
1

סירה קטנה יכולה לסחוב משקל כולל של 90 ק"ג.
 חבורה של ששה ילדים רוצה לעבד את הנקרה בשתי סירות.
 אילו ילדים יעלו לכל אחת מהסירות?
 משקל הילדים מופיע בטבלה.

הילד	משקל בק"ג
עדו	45
איל	25
גילה	27
יניב	38
מרזם	18
עמרי	21

_____ סירה א:

_____ סירה ב:



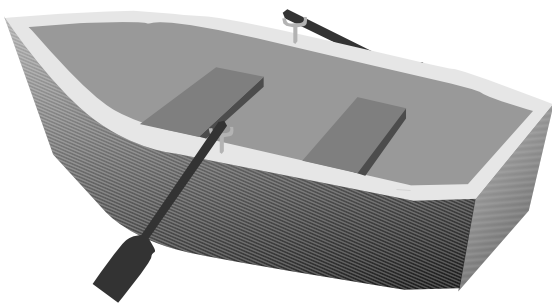
1

סירה קטנה יכולה לסחוב משקל כולל של 90 ק"ג.
חבורה של ששה ילדים רוצה לעבד את הנקה בשתי סירות.
אילו ילדים יעלו לכל אחת מהסירות?
משקל הילדים מופיע בטבלה.

הילד	משקל בק"ג
עדו	45
איל	25
גילה	27
יניב	38
מרם	18
עמרי	21

סירה א: עדו, גילה ומרים.

סירה ב: אייל, יניב ועומרי.



יש יותר מתשובה אחת נכונה.

בְּעִיּוֹת מְלוּלִיּוֹת - נְתוּחַ נְתוּנִים

1

לְיוֹם הַהִלָּדוֹת שְׁלוֹ קִבֵּל יִשְׂרָאֵל

2 מְטִבְעוֹת שֶׁל 10 שְׁקֵלִים,

שְׁטֶר אֶחָד שֶׁל 50 שְׁקֵלִים,

4 מְטִבְעוֹת שֶׁל 5 שְׁקֵלִים

וְ - 8 מְטִבְעוֹת שֶׁל שְׁקֵל אֶחָד.

הוּא רוֹצֵה לְקַנּוֹת מְכוּנִית בְּ - 48 שְׁקֵלִים וְכְדוּר בְּ - 15 שְׁקֵלִים.

כַּמָּה כֶּסֶף יִשְׁאַר לוֹ? _____

אֵיךְ חֲשַׁבְתָּם? _____

בְּאַרְנֶק שְׁלוֹ נִשְׁאַרוּ הַמְטִבְעוֹת שֶׁל 5 שְׁקֵלִים, וְאִין שְׁטֶר.

אֵילוֹ מְטִבְעוֹת נּוֹסְפִים יֵשׁ לוֹ? _____

1

ליום ההלדת שלו קבל ישי

2 מטבעות של 10 שקלים,

שטר אחד של 50 שקלים,

4 מטבעות של 5 שקלים

ו- 8 מטבעות של שקל אחד.

הוא רוצה לקנות מכונית ב- 48 שקלים וכדור ב- 15 שקלים.

כמה כסף ישאר לו? ישארו לו 35 שקלים.

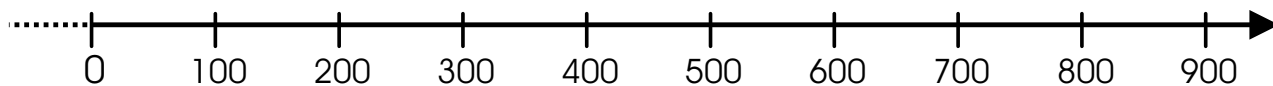
איך חשבתם?

בארנק שלו נשארו המטבעות של 5 שקלים, ואין שטר.

אילו מטבעות נוספים יש לו? יש לו מטבע אחד של 10 שקלים וחמישה מטבעות של שקל.

1

סמנו על ציר המספרים את תוצאות התרגילים ואת האותיות המתאימות להן



ל. $150 + 628 =$

ו. $415 + 213 =$

ג. $728 - 630 =$

ת. $625 - 301 =$

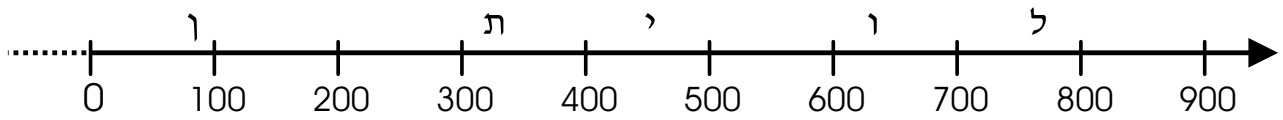
י. $318 + 156 =$

אם פתרתם נכון, קבלת שם של יונק ימי גדול.

כתבו תרגיל שאות התוצאה שלו נסמן בין 500 ל- 600

1

סמנו על ציר המספרים את תוצאות התרגילים ואת האותיות המתאימות להן



ל. $150 + 628 = 778$

ו. $415 + 213 = 628$

ג. $728 - 630 = 98$

ת. $625 - 301 = 324$

י. $318 + 156 = 474$

אם פתרתם נכון, קבלת שם של יונק ימי גדול.

כתבו תרגיל שאות התוצאה שלו נסמן בין 500 ל- 600