


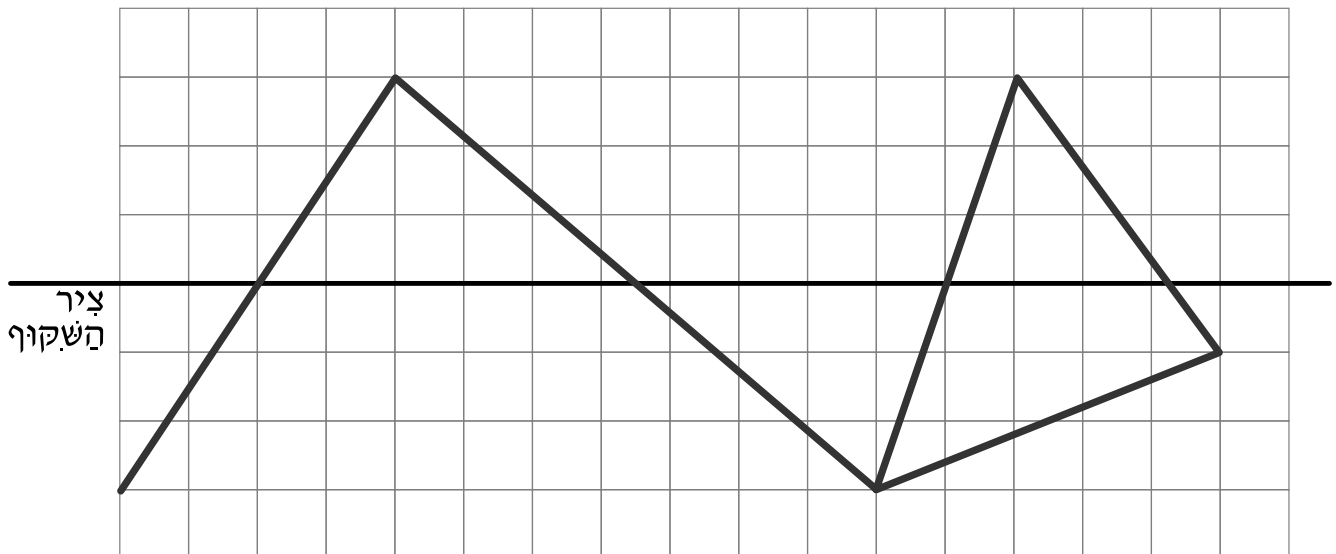
1

הַזָּיזוּ כָּל אֶחָד מֵהַקּוּיִם בְּשֵׁלֶשׁ מַשְׁבָּצוֹת יְמִינָה. חֲזְרוּ עַל הַפְּעֻלָּה 6 פְּעָמִים



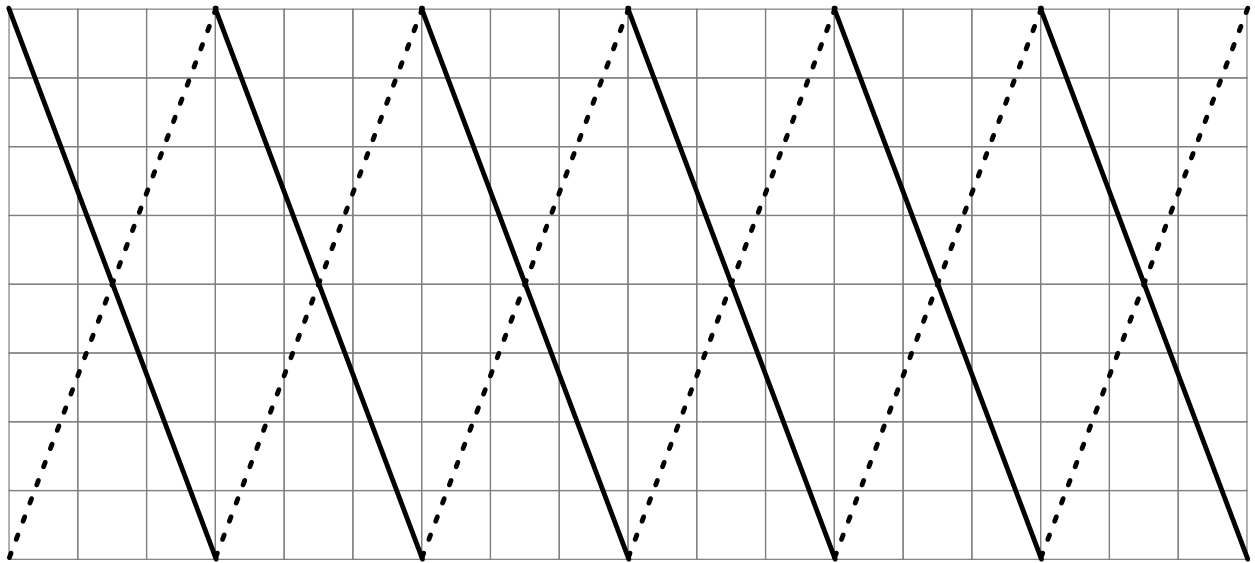
2

צִיְרוּ בְּצֶבֶע אֶת הַשִּׁקּוּף שֶׁל הַתְּמוּנָה לְפִי צִיר הַשִּׁקּוּף



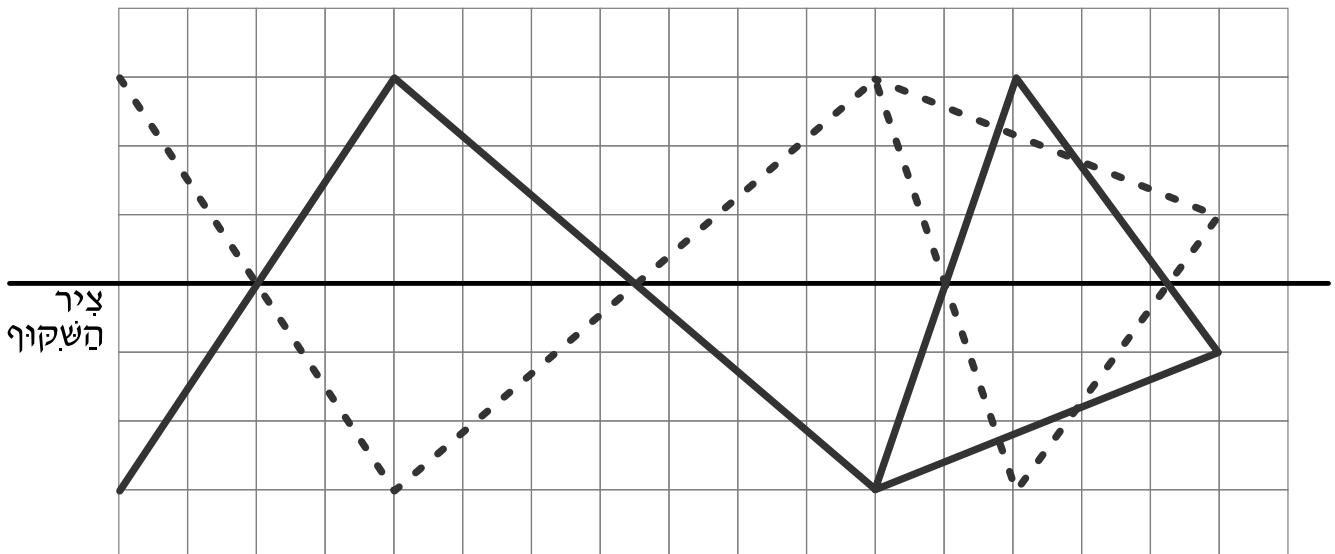
הזיזו כל אחד מהקווים בשלש משבצות ימינה. חזרו על הפעולה 6 פעמים

1



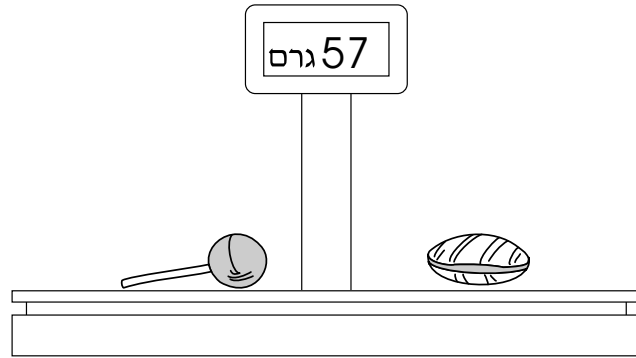
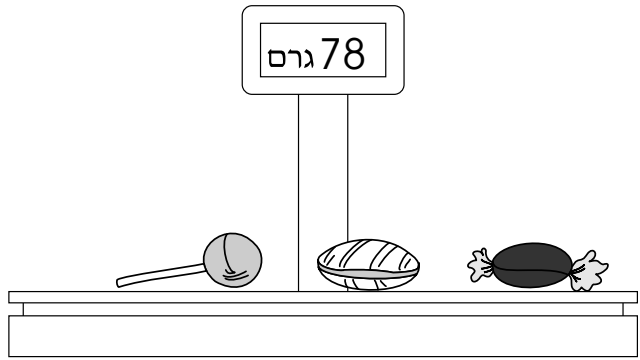
ציירו בצבע את השקוף של התמונה לפי ציר השקוף

2







1

שקלו את הסכריות בפלופים שונים, וקבלו את התוצאות הפאות:



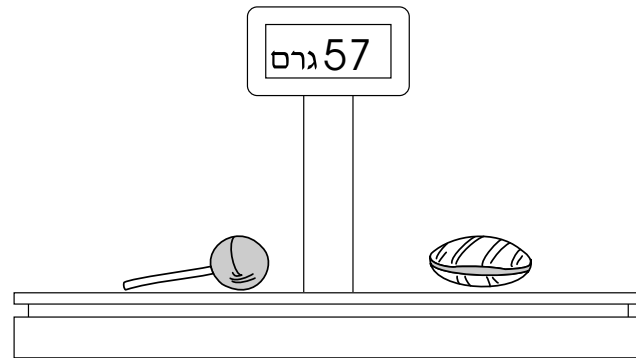
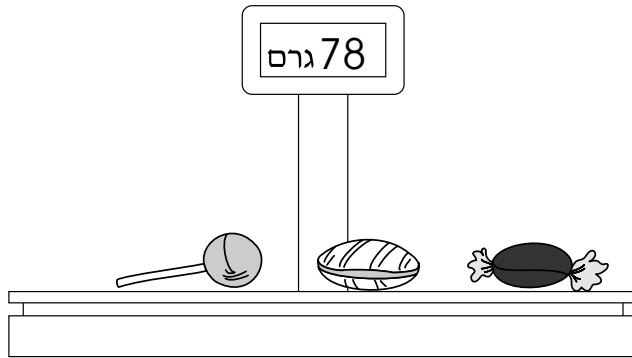
חשבו את המשקל של כל סכריה

- _____ 
- _____ 
- _____ 



1

שקלו את הספריות הפאות בשלובים שונים, וקבלו את התוצאות הפאות:



חשבו את המשקל של כל ספרייה


_____ 21 גרם.



_____ 32 גרם.


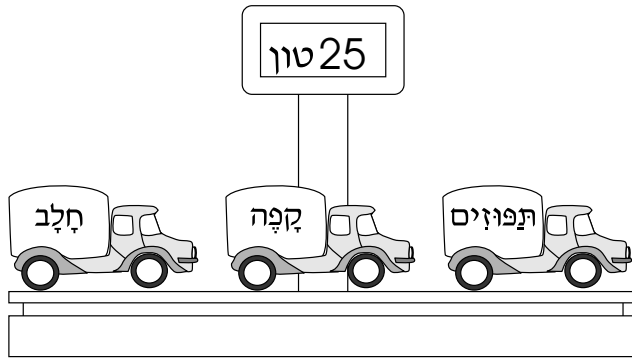


_____ 25 גרם.



1

שקלו שלש משאיות בשלובים שונים, וקבלו את התוצאות הבאות:




חשבו את המשקל של כל משאית

_____ : משאית חלב:


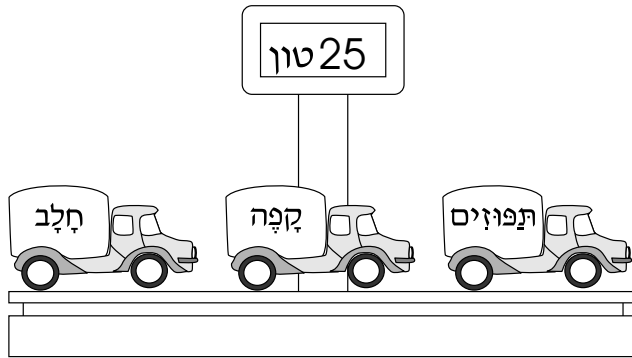
_____ : משאית קפה:

_____ : משאית תפוזים:



1

שקלו שלש משאיות בשלובים שונים, וקבלו את התוצאות הבאות:




חשבו את המשקל של כל משאית

משאית חלב: 10 טון.


משאית קפה: 8 טון.

משאית תפוזים: 7 טון.





1

הַבִּבָּה מְחַבֵּרֶת בְּחוּט שְׁקוּף לְנִקְדָּה א.
הִתְחַלְנוּ לְצַיֵּר אֶת הַבִּבָּה בְּמַצְבֵי סִיבּוּב שׁוֹנִים.
הַשְׁלִימוּ אֶת הַצִּיּוּרִים

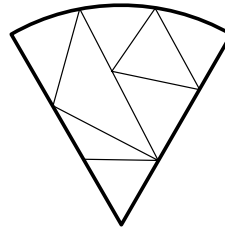
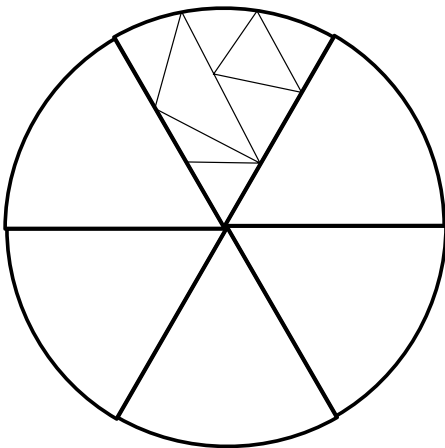


• א




2

הַקְּלִידוֹסְקוֹפִּי הוּא מְכַשֵּׁיר-שַׁעֲשׂוּעַ, שְׂאֹתוֹ צִיּוּר מוֹפִיעַ בּוֹ כַּמָּה פְּעָמִים
בְּמַצְבֵי סִיבּוּב שׁוֹנִים וּבְצִבְעִים שׁוֹנִים.
הַשְׁלִימוּ אֶת הַצִּיּוּר, וְצַבַּע אֹתוֹ כְּרָצוֹנְךָ





1

הפכה מחברת בחוט שקוף לנקדה א.
 התחלנו לצייר את הפכה במצבי סיבוב שונים.
 השלימו את הציורים



א •



2

הקלידוסקופ הוא מכשיר-שעשוע, שאותו ציור מופיע בו כמה פעמים
 במצבי סיבוב שונים ובצבעים שונים.
 השלימו את הציור, וצבע אותו כרצונך

