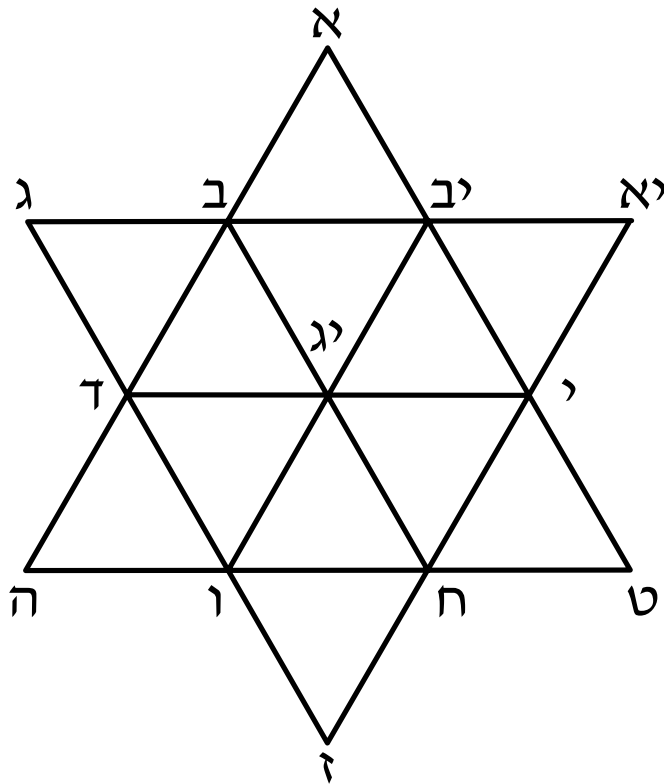


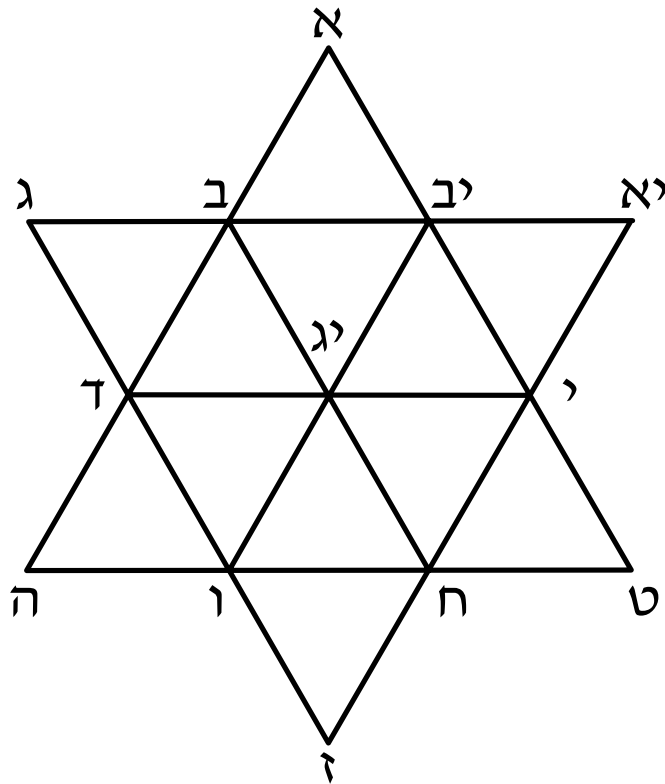
1



חפשו משלשים, וכתבו את שמותיהם. לדגמא: (א, ב, יב)

חפשו מעינים, וכתבו את שמותיהם. כמה מעינים מצאתם?

1



חפשו משלשים, וכתבו את שמותיהם. לדגמא: (א, ב, יב)

יא-יב-י, י-יג-יב, יג-ב-ד, ב-ג-ד, ד-ה-ו, יג-ד-ו, יג-ו-ח, ח-ז-ו

ט-י-ח, י-ח-יג, יב-יג-ב

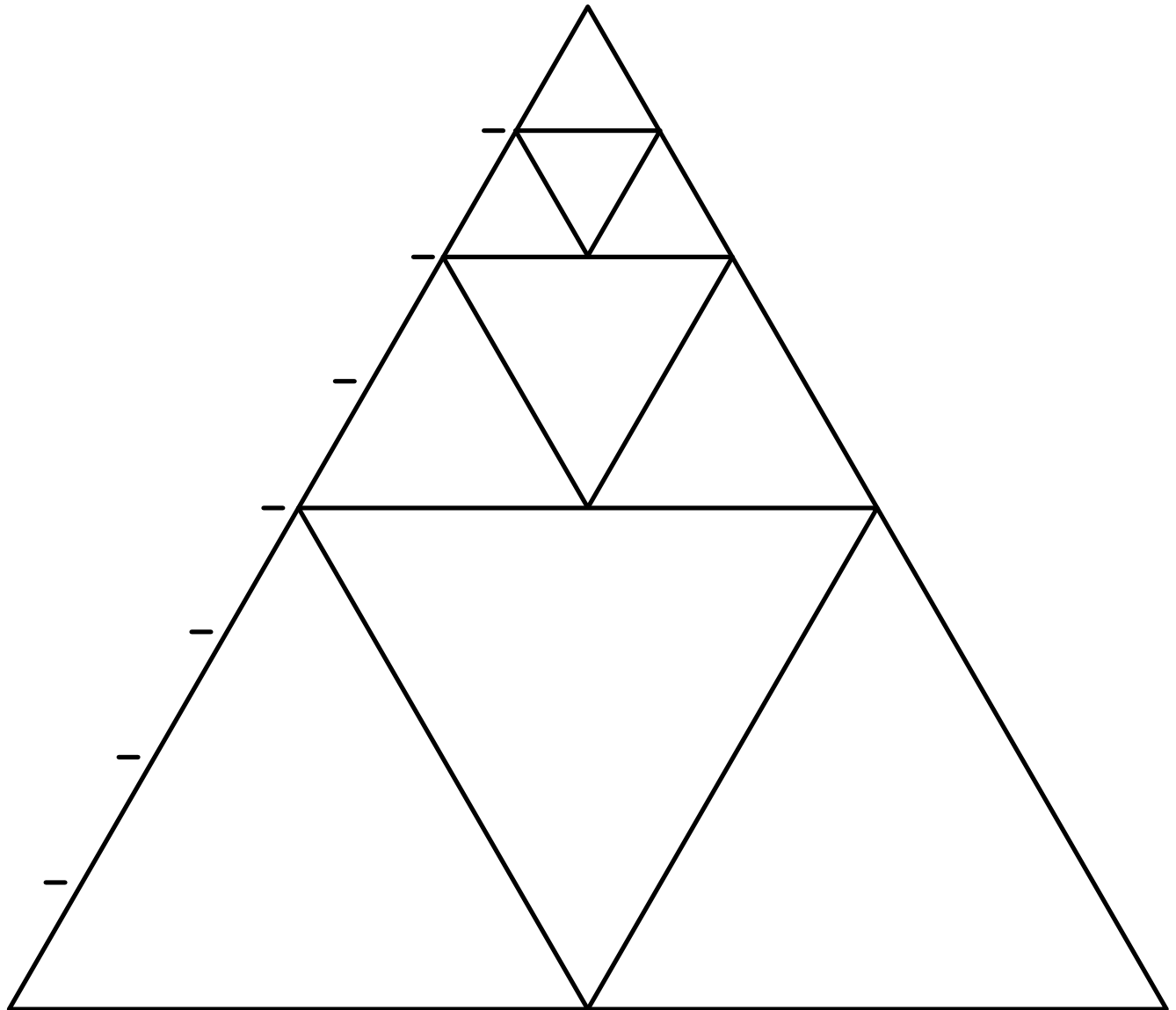
חפשו מעינים, וכתבו את שמותיהם. כמה מעינים מצאת?

יא-יב-יג-י, יב-א-ב-יג, יג-ב-ג-ד, יג-ד-ה-ו, יג-ו-ז-ח, יג-ח-ט-י

ח-ו-ד-יג, ו-ד-ב-יג, ד-ב-יב-יג, ב-יב-י-יג, יב-י-ח-יג, י-ח-ו-יג

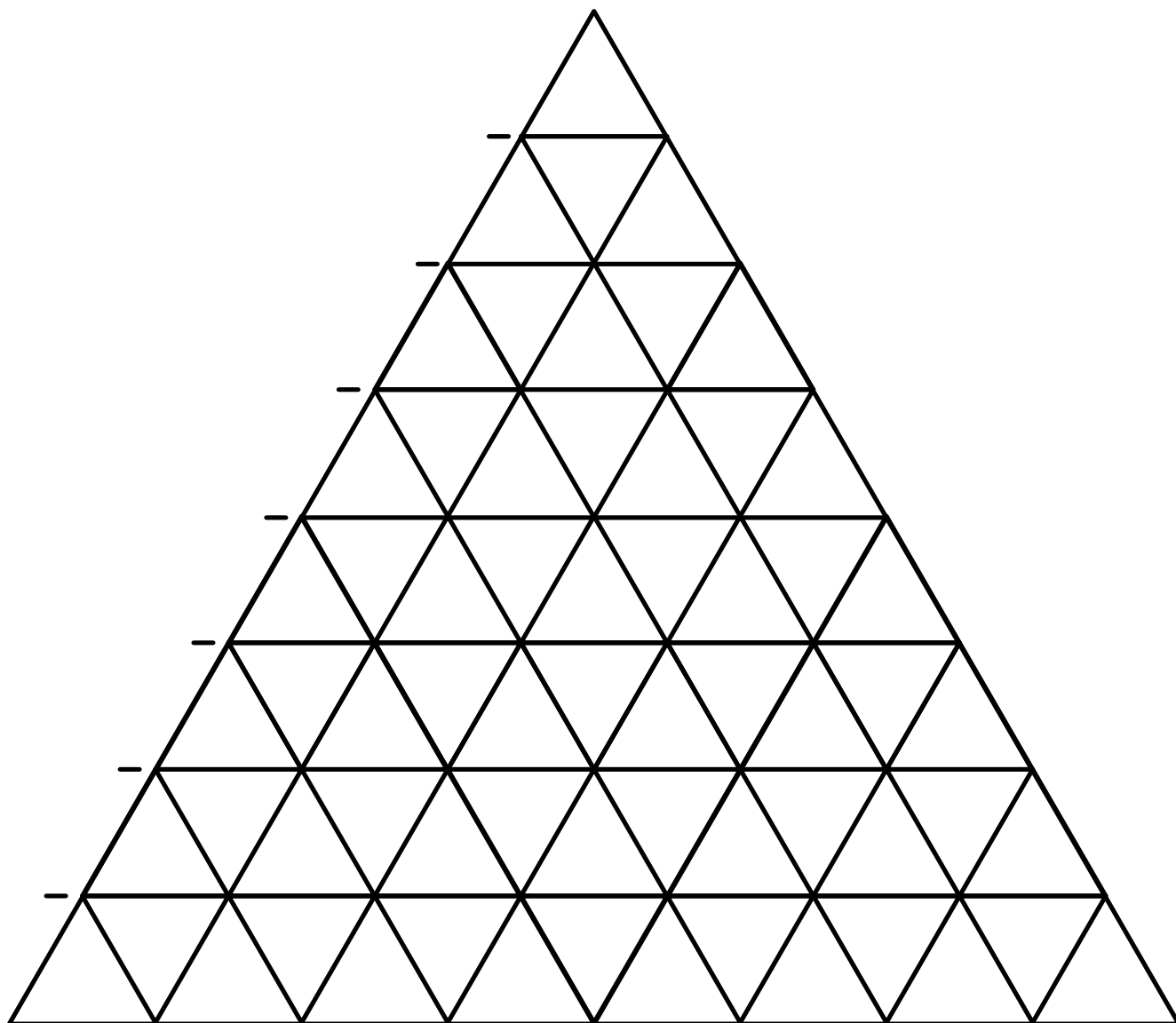
1

השלימו את הציור כך שיהיו במשולש 64 משלשים שוי צלעות זהים



השלימו את הציור כך שיהיו במשולש 64 משולשים שוי צלעות זהים

1



1

בכפר החיות יש מסלול ריצה.

החלזון מקיף את המסלול ב- 10 דקות.

הצב מקיף את המסלול ב- 5 דקות.

הארנב מקיף את המסלול ב- 2 דקות.

החלזון הצב והארנב עושים תחרות ומתחילים את המסלול יחד.

אחרי כמה דקות הם פגשו יחד בקו ההתחלה?

כמה פעמים הקיף החלזון את המסלול? _____

כמה פעמים הקיף הצב את המסלול? _____

כמה פעמים הקיף הארנב את המסלול? _____

1

בכפר החיות יש מסלול ריצה.

החלזון מקיף את המסלול ב - 10 דקות.

הצב מקיף את המסלול ב - 5 דקות.

הארנב מקיף את המסלול ב - 2 דקות.

החלזון הצב והארנב עושים תחרות ומתחילים את המסלול יחד.

אחרי כמה דקות הם פגשו יחד בקו ההתחלה?

הם פגשו יחד בקו ההתחלה אחרי 10 דקות.

כמה פעמים הקיף החלזון את המסלול פעם אחת.

כמה פעמים הקיף הצב את המסלול? הצב הקיף את המסלול פעמיים.

כמה פעמים הקיף הארנב את המסלול? הארנב הקיף את המסלול 5 פעמים.

כפולות של 2, של 5 ושל 10

1

סמנו דרך המובילה מנקודת ההתחלה לנקודת הסיום
מתר לעב' ר רק על מספרים שאינם כפולה של 2, של 5 או של 10

237	129	232	965	545	868
654	451	126	478	428	775
234	31	677	871	987	137
125	444	393	137	834	449
876	543	567	763	555	321

1

סמנו דרך המובילה מנקודת ההתחלה לנקודת הסיום
מתר לעב' ר רק על מספרים שאינם כפולה של 2, של 5 או של 10

237	129	232	965	545	868
654	451	126	478	428	775
234	31	677	871	987	137
125	444	393	137	834	449
876	543	567	763	555	321

1

חידה:

- אם מחלקים אותי ב- 2, תשאור שארית 1.
 - אם מחלקים אותי ב- 3, תשאור שארית 1.
 - אם מחלקים אותי ב- 5, תשאור שארית 1.
 - אם מחלקים אותי ב- 10, תשאור שארית 1.
- מי אני יכ' ל להיות?

חידה:

- אם מחלקים אותי ב- 2, תשאור שארית 1.
 - אם מחלקים אותי ב- 3, תשאור שארית 0.
 - אם מחלקים אותי ב- 5, תשאור שארית 3.
 - אם מחלקים אותי ב- 7, תשאור שארית 5.
 - ואם מחסירים ממני 1, אני מתחלק ב- 4.
- מי אני יכ' ל להיות?

כתבו תרגיל דומה משלך

1

חידה:

- אם מחלקים אותי ב- 2, תשאור שארית 1.
 - אם מחלקים אותי ב- 3, תשאור שארית 1.
 - אם מחלקים אותי ב- 5, תשאור שארית 1.
 - אם מחלקים אותי ב- 10, תשאור שארית 1.
- מי אני יכ' ל להיות?

31, 61, 91...

חידה:

- אם מחלקים אותי ב- 2, תשאור שארית 1.
 - אם מחלקים אותי ב- 3, תשאור שארית 0.
 - אם מחלקים אותי ב- 5, תשאור שארית 3.
 - אם מחלקים אותי ב- 7, תשאור שארית 5.
 - ואם מחסירים ממני 1, אני מתחלק ב- 4.
- מי אני יכ' ל להיות?

33

כתבו תרגיל דומה משלך
